

MANCHE D'ENTRAÎNEMENT

Indiquez ci-dessous, pour chaque groupe, les réponses (A,B,C,D ou E) au problème cible repéré par : 


Fiche à conserver pour les semaines suivantes et jusqu'à la fin de l'entraînement

RAPPEL :

La confrontation collective des différentes procédures est à privilégier pour aider les élèves à construire des démarches.


Les réponses sont à saisir en ligne **à la fin des 5 semaines d'entraînement.**

						
Gr 1						
Gr 2						
Gr 3						
Gr 4						
Gr 5						
Gr 6						
Gr 7						
Gr 8						
Gr 9						
Gr 10						



Fiche synthèse par groupe des scores pour la saisie des réponses







MANCHE D'ENTRAÎNEMENT


Indiquez ci-dessous, votre réponse (A ,B, C, D ou E) au problème sur lequel apparaît une étoile : 

Gardez bien votre fiche jusqu'à la fin des semaines d'entraînement !

RAPPEL :


Les réponses sont à saisir en ligne à la fin des 5 semaines d'entraînement.

						
Groupe						



Fiche synthèse par groupe des scores pour la saisie des réponses







MANCHE D'ENTRAÎNEMENT


Indiquez ci-dessous, votre réponse (A ,B, C, D ou E) au problème sur lequel apparaît une étoile : 

Gardez bien votre fiche jusqu'à la fin des semaines d'entraînement !

RAPPEL :

Les réponses sont à saisir en ligne à la fin des 5 semaines d'entraînement.

						
Groupe						



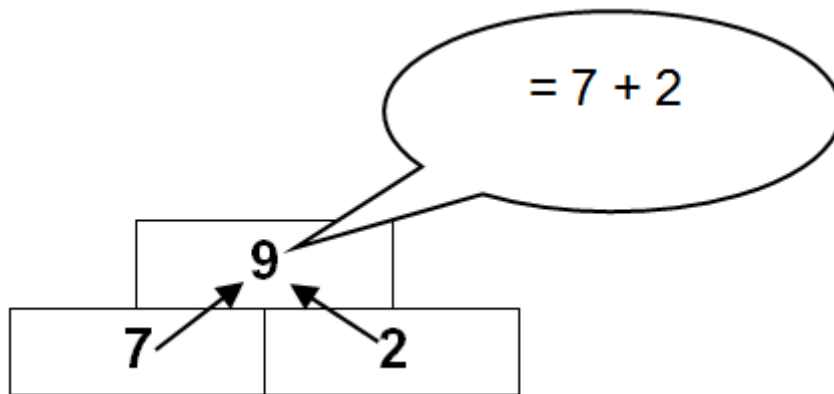
Groupe :



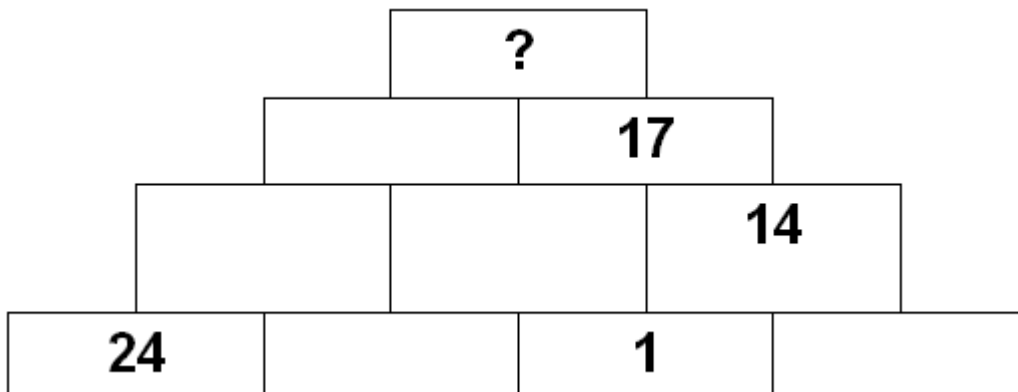
Entraînement 1/5

1

Dans cette pyramide, chaque brique vaut la somme des deux briques sur lesquelles elle repose (comme sur l'exemple).



Quel nombre faut-il écrire à la place du point d'interrogation ?


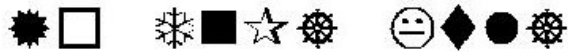


Réponse :

Groupe :

2

Voici quatre messages secrets :



J'ai pu en traduire trois. Les voici en désordre :

LE POISSON NAGE

LE CHAT DORT

LE CHIEN MANGE

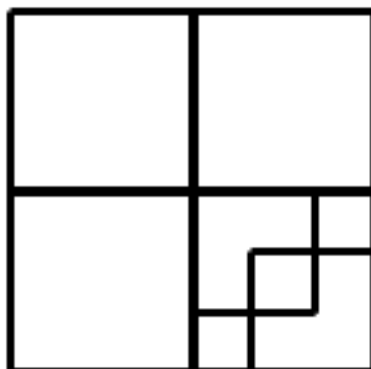
Quelle est la traduction du dernier message ?

- a) DES OISEAUX SAUVAGES
- b) LES CANARIS CHANTENT
- c) DES ORANGES JUTEUSES
- d) DES OISEAUX CHANTENT
- e) LES OISEAUX CHANTENT

Réponse :

3

Combien comptez-vous de carrés dans la figure ci-dessus ?



Réponse :

Cette fiche réponse est à distribuer à chacun des groupes pour la phase de mise en commun durant les 10 dernières minutes. (Voir règlement général)

REPONSES

Groupe :

Entourez la réponse pour chaque problème

Problème 1 :				
A) 58	B) 31	C) 46	D) 48	E) Autre réponse
Problème 2 :				
A) a	B) b	C) c	D) d	E) e
Problème 3 :				
A) 10	B) 9	C) 8	D) 2	E) Autre réponse

REPONSES

Groupe :

Entourez la réponse pour chaque problème

Problème 1 :				
A) 58	B) 31	C) 46	D) 48	E) Autre réponse
Problème 2 :				
A) a	B) b	C) c	D) d	E) e
Problème 3 :				
A) 10	B) 9	C) 8	D) 2	E) Autre réponse

REponses ATTENDUES

Problème 1 :				
A) 58	B) 31	C) 46	D) 48	E) Autre réponse
Problème 2 :				
A) a	B) b	C) c	D) d	E) e
Problème 3 :				
A) 10	B) 9	C) 8	D) 2	E) Autre réponse