

1<sup>3</sup>

35 élèves ont participé au cross.

Le directeur a photographié tous les coureurs qui ont terminé le cross.

Combien d'élèves n'ont pas passé la ligne d'arrivée ?

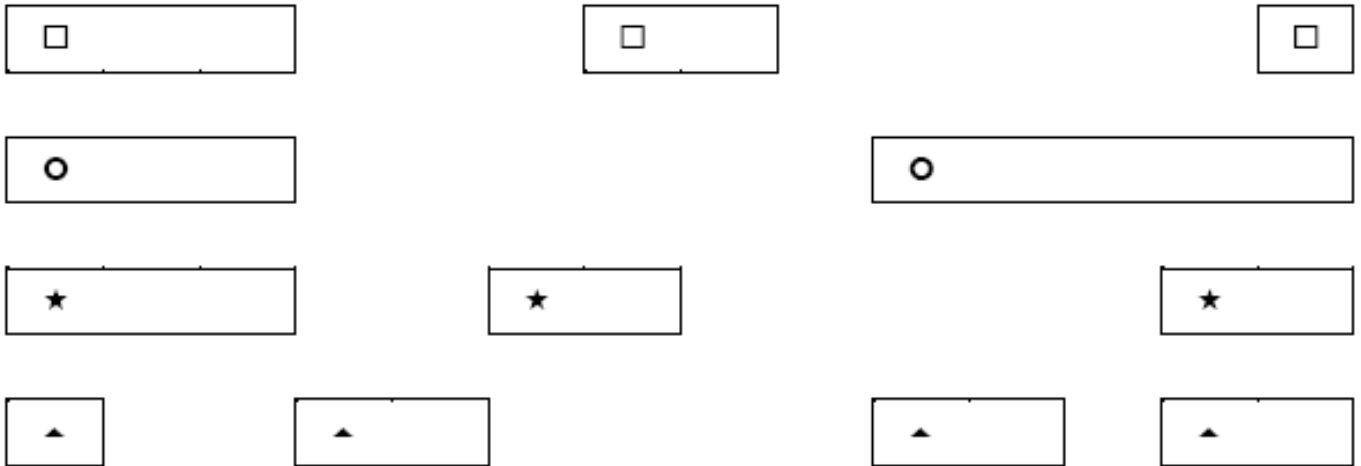


Réponse :

Groupe :

2

Arthur, Fatima, Jules et Zoé veulent jouer au jeu des bandes. Chacun choisit un signe pour marquer ses bandes. Arthur pourra construire le chemin le plus long. Quel est le signe des bandes d'Arthur ?




***Une bande étalon est proposée en annexe.***

Réponse :

3

Groupez les nombres par deux pour que leur somme soit égale à 13. Quelle est la somme des 2 nombres qui restent ?

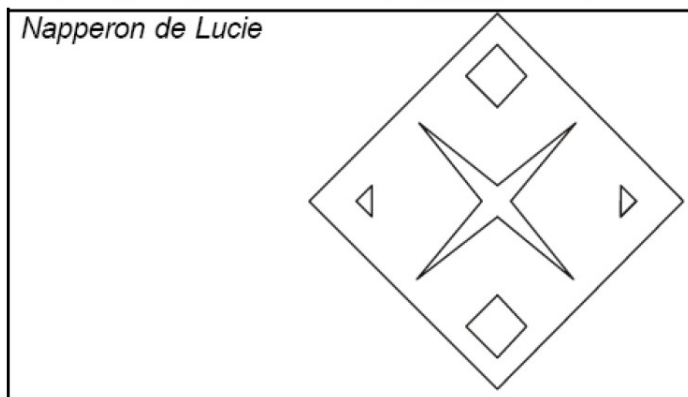
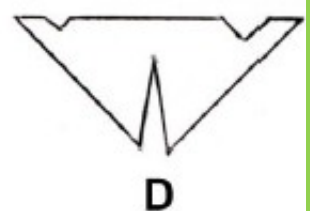
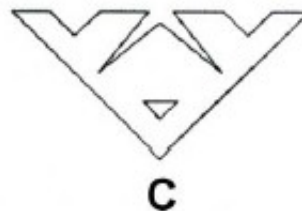
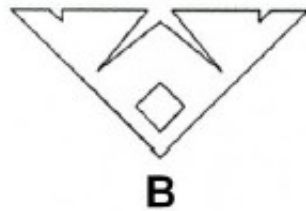
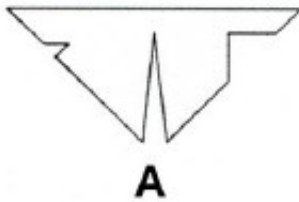
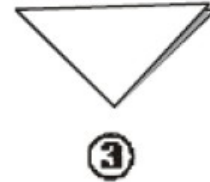
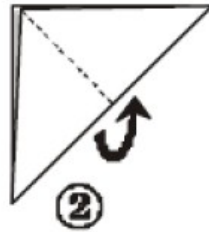
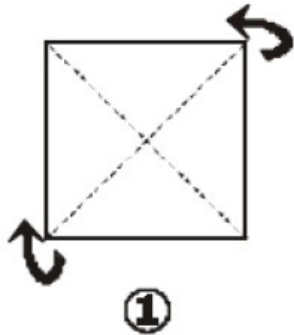


Réponse :

Groupe :

4

Lucie a fait un napperon en découpant un carré de papier après l'avoir plié deux fois comme ci-dessous.



Parmi les découpages A, B, C et D, lequel faut-il faire pour avoir le même napperon que Lucie ?

Réponse :

Cette fiche réponse est à distribuer à chacun des groupes pour la phase de mise en commun durant les 10 dernières minutes. (Voir règlement général)

# REPONSES

Groupe :

Entourez la réponse pour chaque problème

Problème 1 :				
A) 13	B) 20	C) 22	D) 23	E) Autre réponse
Problème 2 :				
A) <input type="checkbox"/>	B) <input type="radio"/>	C) ★	D) ▲	E) Autre réponse
Problème 3 :				
A) 15	B) 16	C) 17	D) 18	E) Autre réponse
Problème 4 :				
A) A	B) B	C) C	D) D	E) Autre réponse

---

# REPONSES

Groupe :

Entourez la réponse pour chaque problème

Problème 1 :				
A) 13	B) 20	C) 22	D) 23	E) Autre réponse
Problème 2 :				
A) <input type="checkbox"/>	B) <input type="radio"/>	C) ★	D) ▲	E) Autre réponse
Problème 3 :				
A) 15	B) 16	C) 17	D) 18	E) Autre réponse
Problème 4 :				
A) A	B) B	C) C	D) D	E) Autre réponse

# ANNEXES

2

Bande étalon



2

Bande étalon



2

Bande étalon



## REPONSES ATTENDUES

<b>Problème 1 :</b>				
A) 13	B) 20	C) 22	D) 23	E) Autre réponse
<b>Problème 2 :</b>				
A) □	B) ○	C) ★	D) ▲	E) Autre réponse
<b>Problème 3 :</b>				
A) 15	B) 16	C) 17	D) 18	E) Autre réponse
<b>Problème 4 :</b>				
A) A	B) B	C) C	D) D	E) Autre réponse