

Groupe :



Entraînement 4/5

1

Deux chameaux se promènent dans le désert.

Sur chaque chameau, il y a deux paniers.

Dans chaque panier, il y a deux chattes et chacune des chattes est accompagnée de trois chatons.

Combien y-a-t-il d'animaux en tout ?

Réponse :

2

Quelle flèche va traverser la pomme ?












































Réponse :

3





4






Voici 5 voitures avec leur programme de circulation :

Quelle est la couleur de la première voiture qui arrivera à la maison ?

Descriptif des instructions

	La voiture avance d'une case.
	La voiture recule d'une case.
	La voiture pivote sur sa droite sans avancer..
	La voiture pivote sur sa gauche sans avancer.

Réponse :

4

Lucie a utilisé 4 des nombres suivants : 3 / 6 / 8 / 10 / 12. Elle a fait des additions et des soustractions et elle a obtenu : 16

Quel nombre n'a-t-elle pas utilisé ?

Réponse :

Cette fiche réponse est à distribuer à chacun des groupes pour la phase de mise en commun durant les 10 dernières minutes. (Voir règlement général)

REPONSES

Groupe :

Entourez la réponse pour chaque problème

Problème 1 :				
A) 34	B) 38	C) 15	D) 17	E) Autre réponse
Problème 2 :				
A) 1	B) 2	C) 3	D) 4	E) 5
Problème 3 :				
A) voiture rouge	B) voiture rose	C) voiture verte	D) voiture bleue	E) voiture jaune
Problème 4 :				
A) 3	B) 6	C) 8	D) 10	E) 12

REPONSES

Groupe :

Entourez la réponse pour chaque problème

Problème 1 :				
A) 34	B) 38	C) 15	D) 17	E) Autre réponse
Problème 2 :				
A) 1	B) 2	C) 3	D) 4	E) 5
Problème 3 :				
A) voiture rouge	B) voiture rose	C) voiture verte	D) voiture bleue	E) voiture jaune
Problème 4 :				
A) 3	B) 6	C) 8	D) 10	E) 12

REponses ATTENDUES

Problème 1 :				
A) 34	B) 38	C) 15	D) 17	E) Autre réponse
Problème 2 :				
A) 1	B) 2	C) 3	D) 4	E) 5
Problème 3 :				
A) voiture rouge	B) voiture rose	C) voiture verte	D) voiture bleue	E) voiture jaune
Problème 4 :				
A) 3	B) 6	C) 8	D) 10	E) 12