

MANCHE D'ENTRAÎNEMENT

Indiquez ci-dessous, pour chaque groupe, les réponses (A,B,C,D ou E) au problème cible repéré par : 


Fiche à conserver pour les semaines suivantes et jusqu'à la fin de l'entraînement

RAPPEL :

La confrontation collective des différentes procédures est à privilégier pour aider les élèves à construire des démarches.

Les réponses sont à saisir en ligne **à la fin des 5 semaines d'entraînement.**

						
Gr 1						
Gr 2						
Gr 3						
Gr 4						
Gr 5						
Gr 6						
Gr 7						
Gr 8						
Gr 9						
Gr 10						



Fiche synthèse par groupe des scores pour la saisie des réponses



MANCHE D'ENTRAÎNEMENT

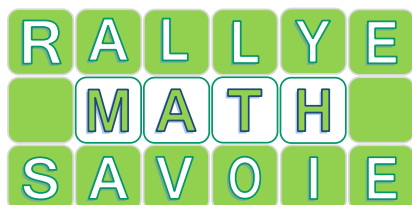
Indiquez ci-dessous, votre réponse (A ,B, C, D ou E) au problème sur lequel apparaît une étoile : 

Gardez bien votre fiche jusqu'à la fin des semaines d'entraînement !

RAPPEL :


Les réponses sont à saisir en ligne à la fin des 5 semaines d'entraînement.

						
Groupe						



Fiche synthèse par groupe des scores pour la saisie des réponses







MANCHE D'ENTRAÎNEMENT


Indiquez ci-dessous, votre réponse (A ,B, C, D ou E) au problème sur lequel apparaît une étoile : 

Gardez bien votre fiche jusqu'à la fin des semaines d'entraînement !

RAPPEL :

Les réponses sont à saisir en ligne à la fin des 5 semaines d'entraînement.

						
Groupe						



Groupe :



Entraînement 1/5

1

Depuis la naissance de Cédric, ses parents ont fêté chaque année son anniversaire. Chaque fois, il y avait un gâteau avec le nombre de bougies correspondant à son âge.

Les parents de Cédric ont calculé que, depuis sa naissance, ils ont allumé 66 bougies.

Quel âge a Cédric ?

Réponse :

2



Au zoo, vous avez 5 cages devant vous.

- Le singe n'est ni à côté de l'ours ni à côté de la panthère
- Entre le tigre et l'ours, il y a deux cages
- La panthère et l'ours sont côte à côte et la panthère est à droite de l'ours
- Le lion est à côté du singe.

Quel animal est dans la cage du milieu ?

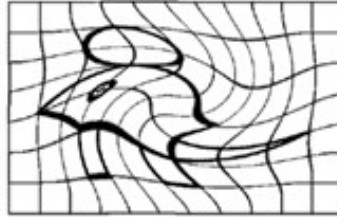
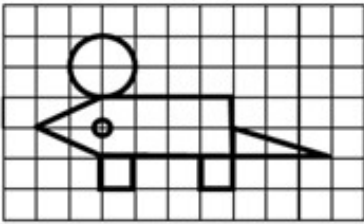


Réponse :

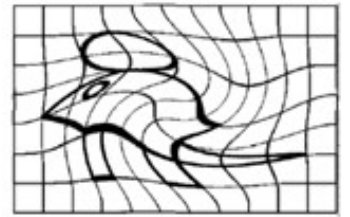
Groupe :

3

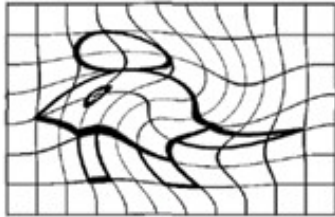
Le chat veut attraper la souris mais il voit tout déformé.




A



B



C



D



E

Indique la lettre de la bonne image de la souris.

Réponse :

Cette fiche réponse est à distribuer à chacun des groupes pour la phase de mise en commun durant les 10 dernières minutes. (Voir règlement général)

REPONSES

Groupe :

Entourez la réponse pour chaque problème

Problème 1 :				
A) 6ans	B) 11 ans	C) 12 ans	D) 66 ans	E) Autre réponse
Problème 2 :				
A) Singe	B) Lion	C) Panthère	D) Ours	E) Tigre
Problème 3 :				
A) A	B) B	C) C	D) D	E) E

Groupe :

REPONSES

Groupe :

Entourez la réponse pour chaque problème

Problème 1 :				
A) 6ans	B) 11 ans	C) 12 ans	D) 66 ans	E) Autre réponse
Problème 2 :				
A) Singe	B) Lion	C) Panthère	D) Ours	E) Tigre
Problème 3 :				
A) A	B) B	C) C	D) D	E) E

REPONSES ATTENDUES

Problème 1 :				
A) 6ans	B) 11 ans	C) 12 ans	D) 66 ans	E) Autre réponse
Problème 2 :				
A) Singe	B) Lion	C) Panthère	D) Ours	E) Tigre
Problème 3 :				
A) A	B) B	C) C	D) D	E) E