

# MANCHE D'ENTRAÎNEMENT

Indiquez ci-dessous, pour chaque groupe, les réponses (A,B,C,D ou E) au problème cible repéré par : 


Fiche à conserver pour les semaines suivantes et jusqu'à la fin de l'entraînement

**RAPPEL :**

La confrontation collective des différentes procédures est à privilégier pour aider les élèves à construire des démarches.


Les réponses sont à saisir en ligne à la fin des 5 semaines d'entraînement.

								
Gr 1								
Gr 2								
Gr 3								
Gr 4								
Gr 5								
Gr 6								
Gr 7								
Gr 8								
Gr 9								
Gr 10								



# Fiche synthèse par groupe des scores pour la saisie des réponses









## MANCHE D'ENTRAÎNEMENT


Indiquez ci-dessous, votre réponse (A ,B, C, D ou E) au problème sur lequel apparaît une étoile : 

Gardez bien votre fiche jusqu'à la fin des semaines d'entraînement !

### RAPPEL :

Les réponses sont à saisir en ligne à la fin des 5 semaines d'entraînement.

								
Groupe .....								



# Fiche synthèse par groupe des scores pour la saisie des réponses









## MANCHE D'ENTRAÎNEMENT


Indiquez ci-dessous, votre réponse (A ,B, C, D ou E) au problème sur lequel apparaît une étoile : 

Gardez bien votre fiche jusqu'à la fin des semaines d'entraînement !

### RAPPEL :

Les réponses sont à saisir en ligne à la fin des 5 semaines d'entraînement.

								
Groupe .....								



Groupe :



Entraînement 1/5

1

Quatre amis montent dans la même voiture.

On sait que :

- il y a deux places à l'avant comme à l'arrière.
- Gervais et Florent ne sont pas assis côte à côte.
- Gervais est assis derrière le conducteur.
- si c'est Clément qui conduit, alors Florent est à côté de lui.
- si c'est Maxime qui conduit, alors Clément est à côté de lui.

Trouvez qui est assis à côté de Gervais.

Réponse :

2



Parmi les cinq nombres ci-dessous, j'ai choisi un nombre pair. Tous ses chiffres sont différents. Son chiffre des centaines est le double du chiffre des unités, son chiffre des dizaines est plus grand que le chiffre des milliers.

1246    3874    4683    4874    8462

Quel nombre ai-je choisi ?

Réponse :

Groupe :

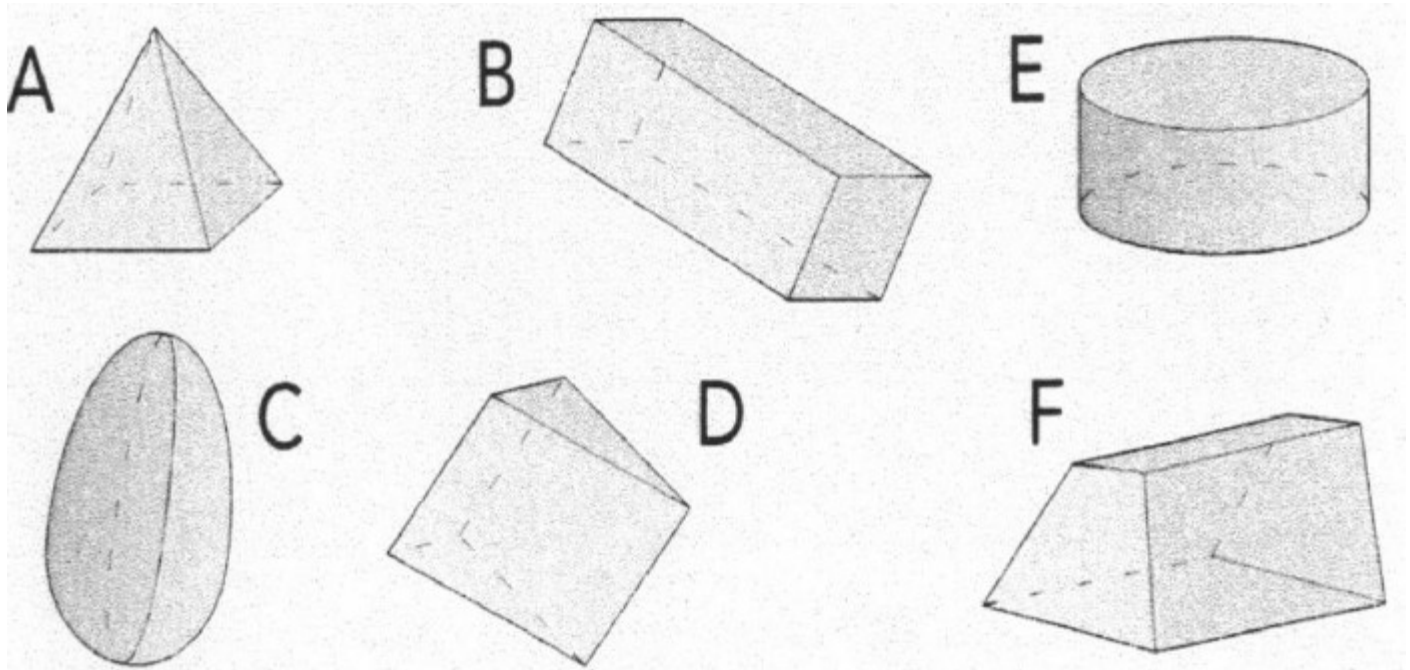
3

Je suis un solide.

Toutes mes faces sont des polygones.

Certaines sont rectangulaires.

Aucun triangle ni carré ne me compose. Qui suis-je ?



Réponse :

Cette fiche réponse est à distribuer à chacun des groupes pour la phase de mise en commun durant les 10 dernières minutes. (Voir règlement général)

# REPONSES

Groupe :

Entourez la réponse pour chaque problème

Problème 1 :				
A) Gervais	B) Florent	C) Maxime	D) Clément	E) Autre réponse
Problème 2 :				
A) 1246	B) 3874	C) 4683	D) 8462	E) Autre réponse
Problème 3 :				
A) solide D	B) solide E	C) solide A	D) solide B	E) Autre réponse

---

# REPONSES

Groupe :

Entourez la réponse pour chaque problème

Groupe :

Problème 1 :				
A) Gervais	B) Florent	C) Maxime	D) Clément	E) Autre réponse
Problème 2 :				
A) 1246	B) 3874	C) 4683	D) 8462	E) Autre réponse
Problème 3 :				
A) solide D	B) solide E	C) solide A	D) solide B	E) Autre réponse

# REPONSES ATTENDUES

<b>Problème 1 :</b>				
A) Gervais	B) Florent	C) Maxime	D) Clément	E) Autre réponse
<b>Problème 2 :</b>				
A) 1246	B) 3874	C) 4683	D) 8462	E) Autre réponse
<b>Problème 3 :</b>				
A) solide D	B) solide E	C) solide A	D) solide B	E) Autre réponse