

# MANCHE D'ENTRAÎNEMENT

Indiquez ci-dessous, pour chaque groupe, les réponses (A,B,C,D ou E) au problème cible repéré par : 


Fiche à conserver pour les semaines suivantes et jusqu'à la fin de l'entraînement

**RAPPEL :**

**La confrontation collective des différentes procédures est à privilégier pour aider les élèves à construire des démarches.**

Les réponses sont à saisir en ligne **à la fin des 5 semaines d'entraînement.**

						
Gr 1						
Gr 2						
Gr 3						
Gr 4						
Gr 5						
Gr 6						
Gr 7						
Gr 8						
Gr 9						
Gr 10						



# Fiche synthèse par groupe des scores pour la saisie des réponses





## MANCHE D'ENTRAÎNEMENT

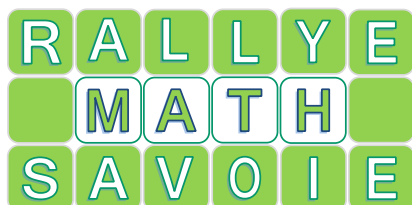
Indiquez ci-dessous, votre réponse (A ,B, C, D ou E) au problème sur lequel apparaît une étoile : 

Gardez bien votre fiche jusqu'à la fin des semaines d'entraînement !

### RAPPEL :


Les réponses sont à saisir en ligne à la fin des 5 semaines d'entraînement.

						
Groupe .....						



# Fiche synthèse par groupe des scores pour la saisie des réponses







## MANCHE D'ENTRAÎNEMENT


Indiquez ci-dessous, votre réponse (A ,B, C, D ou E) au problème sur lequel apparaît une étoile : 

Gardez bien votre fiche jusqu'à la fin des semaines d'entraînement !

### RAPPEL :

Les réponses sont à saisir en ligne à la fin des 5 semaines d'entraînement.

						
Groupe .....						





Groupe :



Entraînement 1/5

1

Combien de carrés gris  faut-il ajouter pour faire disparaître la poule ?



Réponse :

Groupe :


2

## MATERIELE EN ANNEXE

Louison a fabriqué quatre bracelets élastiques.

Elle veut offrir le plus long à sa maman.

Aidez-la à le trouver. Ecrivez la lettre du bracelet le plus long.

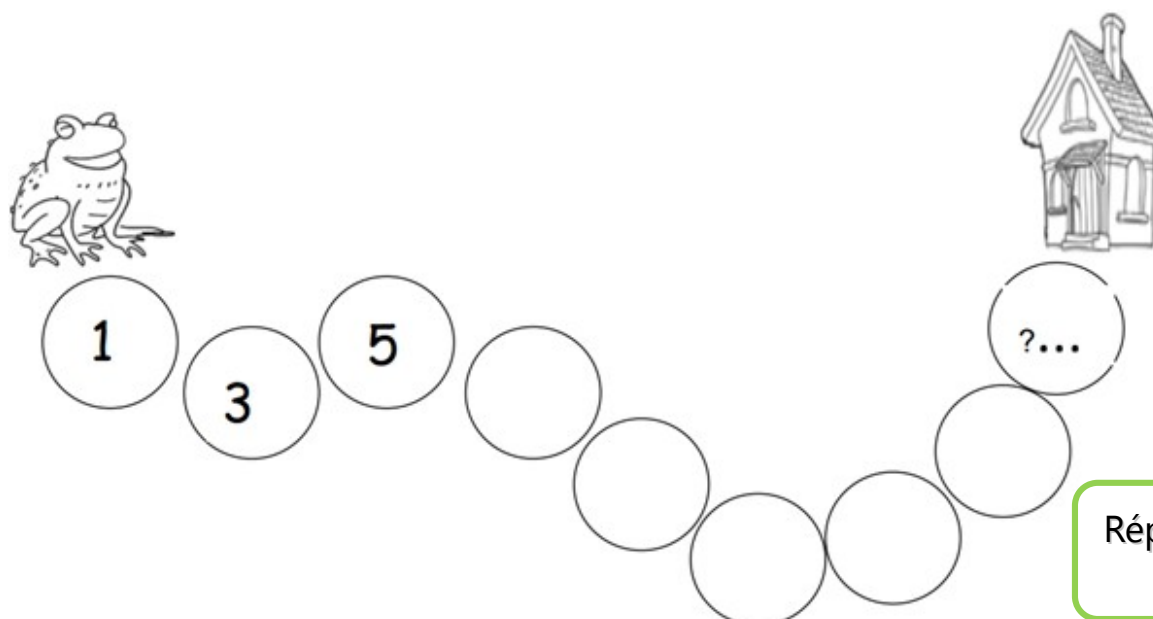


Réponse :

3

La grenouille fait des sauts pour rentrer dans sa maison.

Écrivez le numéro de la pierre qui est devant sa maison.



Réponse :

Cette fiche réponse est à distribuer à chacun des groupes pour la phase de mise en commun durant les 10 dernières minutes. (Voir règlement général)

REPONSES

Groupe :

Entourez la réponse pour chaque problème

Problème 1 :				
A) 24	B) 25	C) 26	D) 28	E) Autre réponse
Problème 2 :				
A) A	B) B	C) C	D) D	
Problème 3 :				
A) 9	B) 17	C) 18	D) 11	E) Autre réponse

REPONSES

Groupe :

Entourez la réponse pour chaque problème

Problème 1 :				
A) 24	B) 25	C) 26	D) 28	E) Autre réponse
Problème 2 :				
A) A	B) B	C) C	D) D	
Problème 3 :				
A) 9	B) 17	C) 18	D) 11	E) Autre réponse

# ANNEXES

2

Mettre à disposition des élèves du matériel pour mesurer (ficelle, ruban...)

## REponses ATTENDUES

### Problème 1 :

A) 24

B) 25

C) 26

D) 28

E) Autre réponse

### Problème 2 :

A) A

B) B

C) C

D) D

### Problème 3 :

A) 9

B) 17

C) 18

D) 11

E) Autre réponse