

Fiche synthèse classe des scores pour la saisie des réponses

MANCHE D'ENTRAÎNEMENT


Indiquez ci-dessous, pour chaque groupe, les réponses (A,B,C,D ou E) aux problèmes.
Fiche à conserver pour toute la durée de l'entraînement.

RAPPEL :

La confrontation collective des différentes procédures est à privilégier pour aider les élèves à construire des démarches.

Les réponses sont à saisir en ligne à la fin des 6 semaines d'entraînement.

	Semaine 1			Semaine 2			Semaine 3			Semaine 4			Semaine 5			Semaine 6		
	Pb 1	Pb 2	Pb 3	Pb 1	Pb 2	Pb 3	Pb 1	Pb 2	Pb 3	Pb 1	Pb 2	Pb 3	Pb 1	Pb 2	Pb 3	Pb 1	Pb 2	Pb 3
Gr 1																		
Gr 2																		
Gr 3																		
Gr 4																		
Gr 5																		
Gr 6																		
Gr 7																		
Gr 8																		
Gr 9																		
Gr 10																		



Fiche synthèse par groupe des scores pour la saisie des réponses

MANCHE D'ENTRAÎNEMENT


GROUPE :

Indiquez ci-dessous, votre réponse (A ,B, C, D ou E) aux problèmes
Gardez bien votre fiche jusqu'à la fin des semaines d'entraînement !

RAPPEL :

Les réponses sont à saisir en ligne à la fin des 6 semaines d'entraînement.

	Semaine 1			Semaine 2			Semaine 3			Semaine 4			Semaine 5			Semaine 6		
	Pb 1	Pb 2	Pb 3	Pb 1	Pb 2	Pb 3	Pb 1	Pb 2	Pb 3	Pb 1	Pb 2	Pb 3	Pb 1	Pb 2	Pb 3	Pb 1	Pb 2	Pb 3
Gr																		



Fiche synthèse par groupe des scores pour la saisie des réponses

MANCHE D'ENTRAÎNEMENT

GROUPE :

Indiquez ci-dessous, votre réponse (A ,B, C, D ou E) aux problèmes
Gardez bien votre fiche jusqu'à la fin des semaines d'entraînement !

RAPPEL :

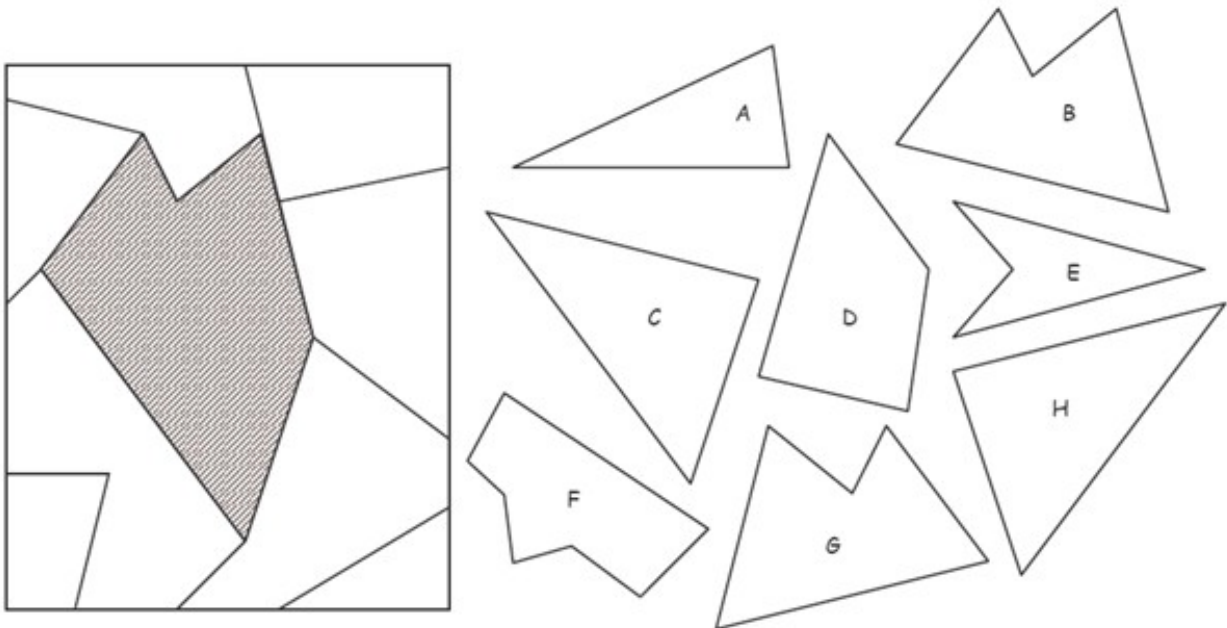
Les réponses sont à saisir en ligne à la fin des 6 semaines d'entraînement.

	Semaine 1			Semaine 2			Semaine 3			Semaine 4			Semaine 5			Semaine 6		
	Pb 1	Pb 2	Pb 3	Pb 1	Pb 2	Pb 3	Pb 1	Pb 2	Pb 3	Pb 1	Pb 2	Pb 3	Pb 1	Pb 2	Pb 3	Pb 1	Pb 2	Pb 3
Gr																		

1

MATERIELE EN ANNEXE

Choisir deux formes pour remplir la partie hachurée du puzzle.



Réponse :

2

Trouver le numéro du ticket gagnant :

- Le carré est au-dessus du rectangle.
- Dans le rectangle se trouve un triangle.
- Un cercle est sous le rectangle.

loto ○ △ □	loto □ ○ △	loto □ △ ○	loto □ △ □	loto □ □ ○	loto ○ □ △	loto △ ○ □
1	2	3	4	5	6	7

Réponse :

3

Je suis un nombre à deux chiffres.
 La somme de mes deux chiffres est 7.
 Je suis plus grand que 26 et plus petit que 44.
 Mon chiffre des dizaines est plus petit que
 mon chiffre des unités.

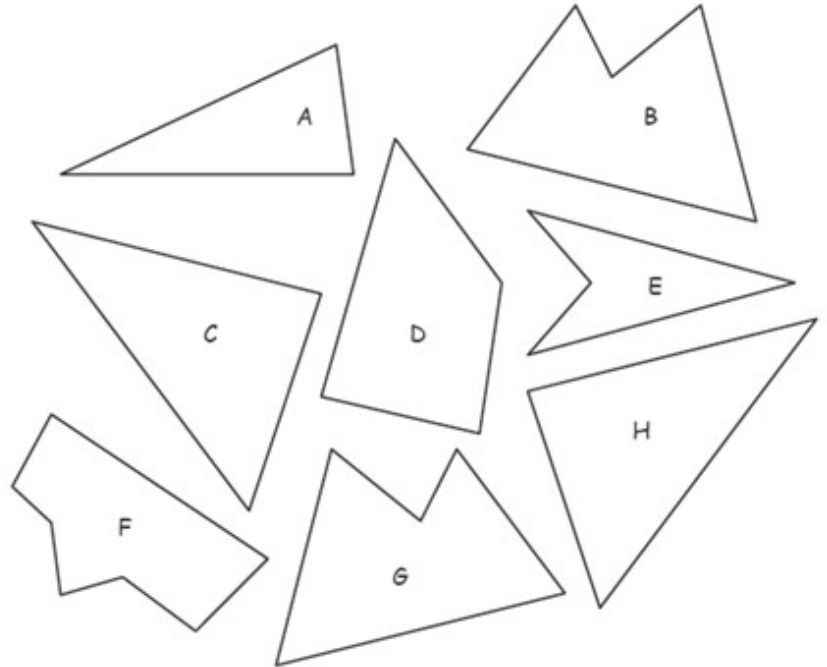
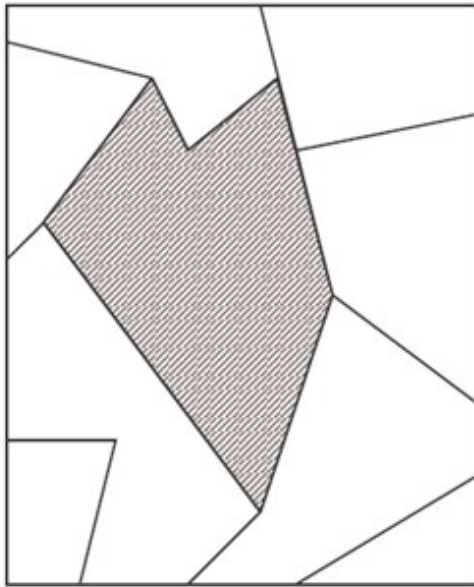
Qui suis-je ?

Réponse :

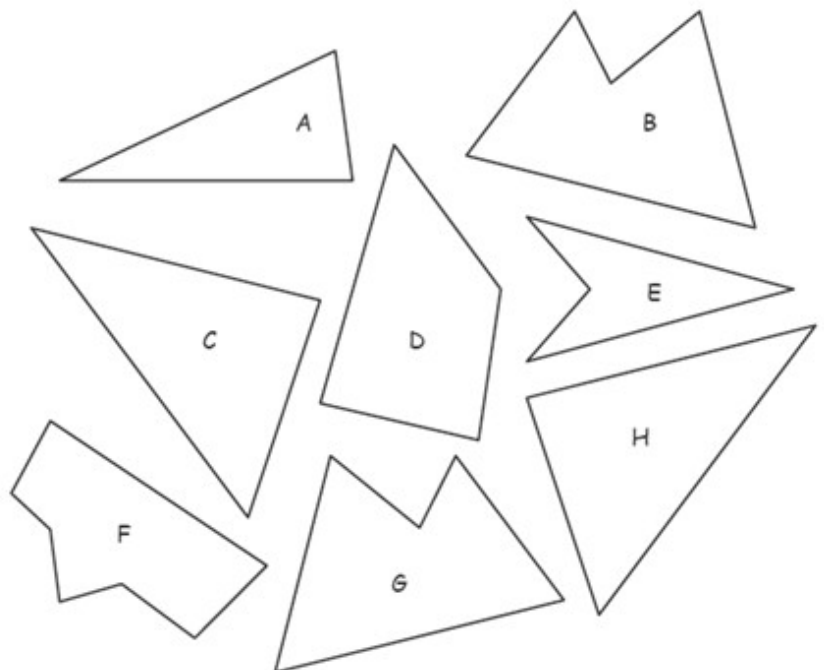
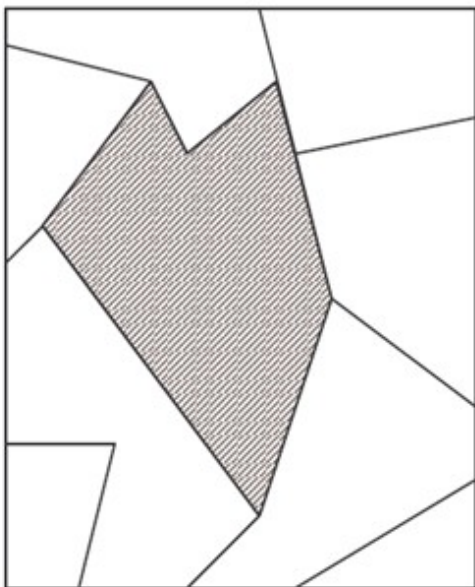
ANNEXES

1

Tu peux découper et faire pivoter les pièces mais pas les retourner.



Tu peux découper et faire pivoter les pièces mais pas les retourner.



Cette fiche réponse est à distribuer à chacun des groupes pour la phase de mise en commun durant les 10 dernières minutes. (Voir règlement général)

REponses

GROUPE :

.....

Entourez la réponse pour chaque problème

Problème 1 :				
A) G et H	B) G et A	C) B et H	D) B et C	E) Autre réponse
Problème 2 :				
A) 1	B) 2	C) 3	D) 6	E) 7
Problème 3 :				
A) 43	B) 25	C) 34	D) 52	E) Autre réponse

REponses

GROUPE :

.....

Entourez la réponse pour chaque problème

Problème 1 :				
A) G et H	B) G et A	C) B et H	D) B et C	E) Autre réponse
Problème 2 :				
A) 1	B) 2	C) 3	D) 6	E) 7
Problème 3 :				
A) 43	B) 25	C) 34	D) 52	E) Autre réponse

REPONSES ATTENDUES

Problème 1 : Il repère des figures dans un assemblage				
A) G et H	B) G et A	C) B et H	D) B et C	E) Autre réponse
Problème 2 : Il situe des objets et reconnaît les figures usuelles				
A) 1	B) 2	C) 3	D) 6	E) 7
Problème 3 : Il connaît la valeur des chiffres en fonction de leur position				
A) 43	B) 25	C) 34	D) 52	E) Autre réponse