



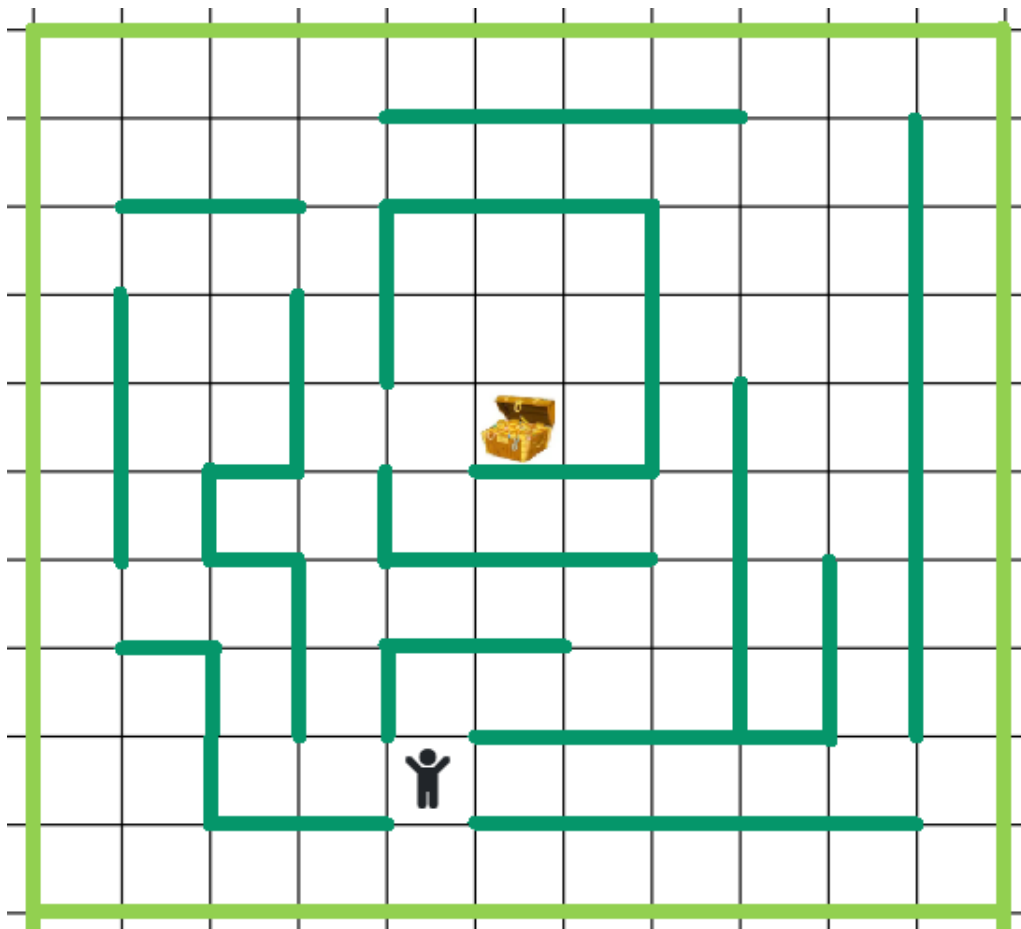


1

Quel message permet d'arriver au trésor ?

- A : 
- B : 
- C : 
- D : 



Réponse :

Groupe :

2

Je suis un nombre de trois chiffres.
Mon chiffre des dizaines est 4.
La somme de mes chiffres est 10.
Mon chiffre des centaines est 5.

Qui suis-je ?

Réponse :

3

Suzie, Antoine, Marie et Léo ont des cheveux de couleurs différentes : noir, châtain, blond et roux.
Marie est rousse.
Antoine n'est pas blond.
L'une des filles a les cheveux noirs.

Quelle est la couleur des cheveux de Léo ?

Réponse :

Cette fiche réponse est à distribuer à chacun des groupes pour la phase de mise en commun durant les 10 dernières minutes. (Voir règlement général)

REPONSES

GROUPE :

.....

Entourez la réponse pour chaque problème

Problème 1 :				
A) message A	B) message B	C) message C	D) message D	E) Autre réponse
Problème 2 :				
A) 145	B) 154	C) 451	D) 514	E) 541
Problème 3 :				
A) noir	B) châtain	C) blond	D) roux	E) Autre réponse

REPONSES

GROUPE :

.....

Entourez la réponse pour chaque problème

Problème 1 :				
A) message A	B) message B	C) message C	D) message D	E) Autre réponse
Problème 2 :				
A) 145	B) 154	C) 451	D) 514	E) 541
Problème 3 :				
A) noir	B) châtain	C) blond	D) roux	E) Autre réponse

REPONSES ATTENDUES

Problème 1 : Il utilise une suite d'instructions qui codent un déplacement				
A) message A	B) message B	C) message C	D) message D	E) Autre réponse
Problème 2 : Il connaît la valeur des chiffres en fonction de leur position				
A) 145	B) 154	C) 451	D) 514	E) 541
Problème 3 : Il résout des problèmes				
A) noir	B) châtain	C) blond	D) roux	E) Autre réponse

