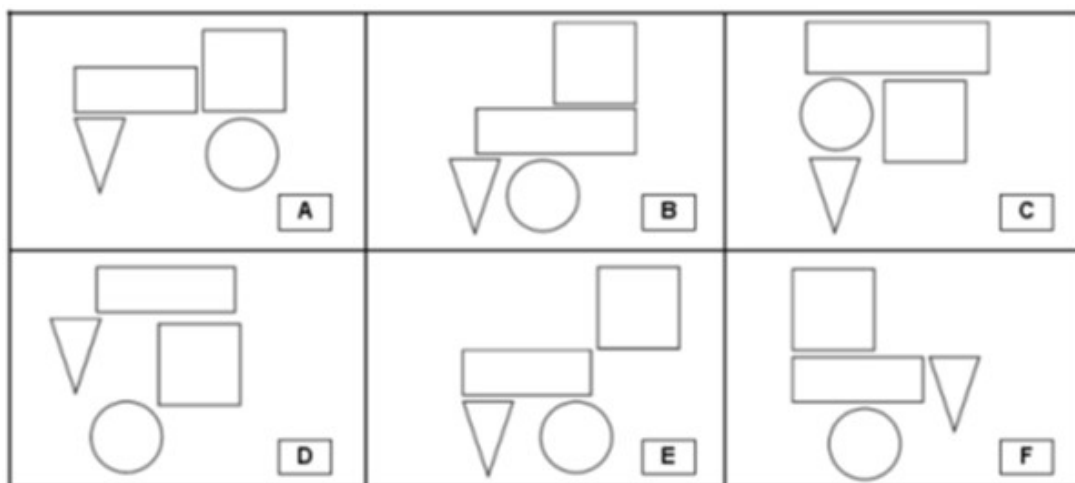
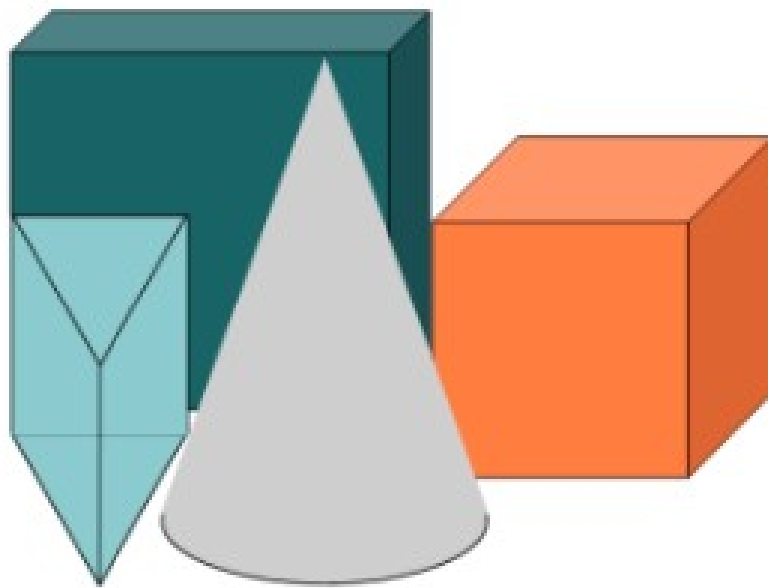


1

Si vous regardez ces objets en vous plaçant au-dessus, quelle image verrez-vous ?

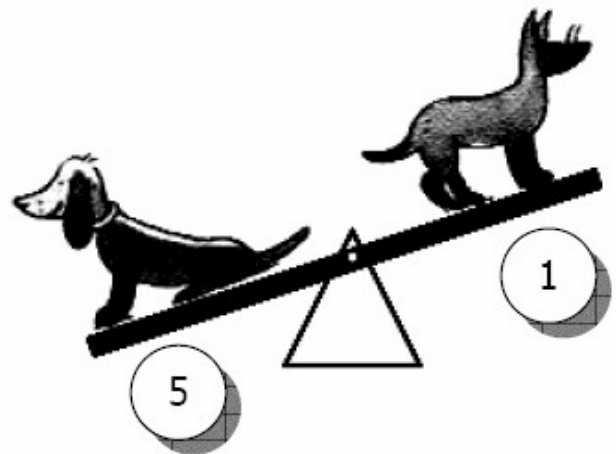





Réponse :

Groupe :

2

Quel est le chien le plus léger ?



Réponse :

3

Dans son porte-monnaie, Lisa a autant de billets de 5 euros que de pièces de 2 euros. Elle possède en tout 42 euros.

Combien Lisa a-t-elle de billets dans son porte-monnaie ?

Réponse :

Cette fiche réponse est à distribuer à chacun des groupes pour la phase de mise en commun durant les 10 dernières minutes. (Voir règlement général)

REPONSES

GROUPE :

.....

Entourez la réponse pour chaque problème

Problème 1 :				
A) dessin E	B) dessin D	C) dessin A	D) dessin F	E) Aucune
Problème 2 :				
A) n°1	B) n°2	C) n°3	D) n°4	E) n°5
Problème 3 :				
A) 3 billets	B) 6 billets	C) 9 billets	D) 12 billets	E) 30 billets

REPONSES

GROUPE :

.....

Entourez la réponse pour chaque problème

Problème 1 :				
A) dessin E	B) dessin D	C) dessin A	D) dessin F	E) Aucune
Problème 2 :				
A) n°1	B) n°2	C) n°3	D) n°4	E) n°5
Problème 3 :				
A) 3 billets	B) 6 billets	C) 9 billets	D) 12 billets	E) 30 billets

REponses ATTENDUES

Problème 1 : Il reconnaît les figures et les solides usuels

A) dessin E	B) dessin D	C) dessin A	D) dessin F	E) Aucune
----------------	-------------	-------------	-------------	-----------

Problème 2 : Il résout des problèmes en une ou deux étapes impliquant des masses

A) n°1	B) n°2	C) n°3	D) n°4	E) n°5
--------	--------	--------	--------	--------

Problème 3 : Il résout des problèmes du champ additif et multiplicatif en une ou deux étapes

A) 3 billets	B) 6 billets	C) 9 billets	D) 12 billets	E) 30 billets
--------------	--------------	--------------	---------------	---------------