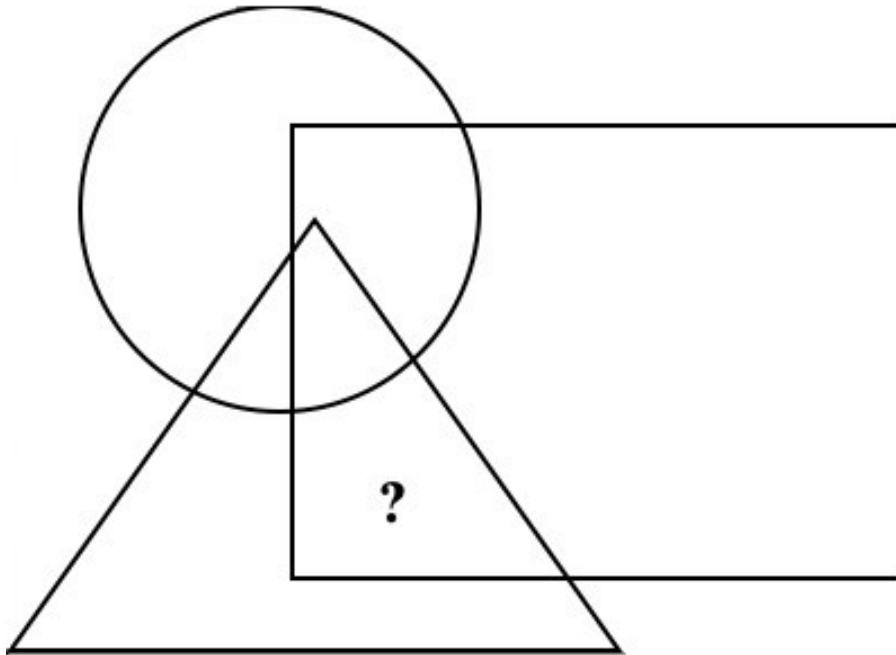


1



Dessine :

- Un soleil qui est à la fois dans le cercle et dans le triangle mais pas dans le rectangle.
- Une lune qui est dans le rectangle mais pas dans le cercle ni dans le triangle.
- Un nuage qui est à la fois dans le cercle, dans le triangle et dans le rectangle.
- Une étoile qui est à la fois dans le rectangle et dans le triangle mais pas dans le cercle.
- Une fleur qui est à la fois dans le cercle et dans le rectangle mais pas dans le triangle.

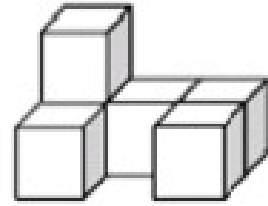
Qu'as-tu dessiné à la place du point d'interrogation ?

Réponse :

Groupe :

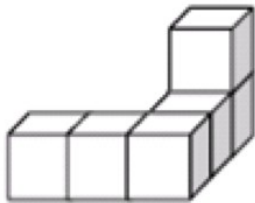
2

Voici le dessin d'une construction réalisée avec des cubes.

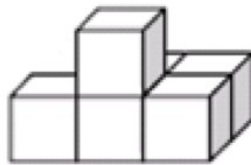


On déplace un seul cube de cette construction puis on dessine les assemblages obtenus sous un autre angle de vue.

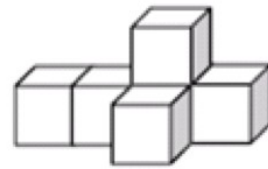
Quelle est la figure qui n'a pas pu être réalisée ?



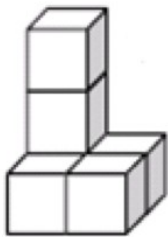
1



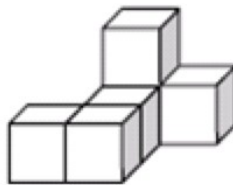
2



3



4



5

Fournir des cubes emboîtables aux élèves.

Réponse :

3

Anne a une collection de 74 timbres.
Elle les range dans des pochettes de 12.

Combien de timbres lui manque-t-il pour compléter la dernière pochette ?

Réponse :

Cette fiche réponse est à distribuer à chacun des groupes pour la phase de mise en commun durant les 10 dernières minutes. (Voir règlement général)

REponses

GROUPE :

.....

Entourez la réponse pour chaque problème

Problème 1 :				
A) soleil	B) lune	C) nuage	D) étoile	E) fleur
Problème 2 :				
A) 1	B) 2	C) 3	D) 4	E) 5
Problème 3 :				
A) 10	B) 2	C) 8	D) 12	E)14

REponses

GROUPE :

.....

Entourez la réponse pour chaque problème

Problème 1 :				
A) soleil	B) lune	C) nuage	D) étoile	E) fleur
Problème 2 :				
A) 1	B) 2	C) 3	D) 4	E) 5
Problème 3 :				
A) 10	B) 2	C) 8	D) 12	E)14

REponses ATTENDUES

Problème 1 : Il reconnaît les figures usuelles suivantes : carré, rectangle, triangle et cercle et résout des problèmes de logique.

A)soleil

B)lune

C)nuage

D)étoile

E)fleur

Problème 2 : Il reconnaît, reproduit quelques solides.

A)1

B)2

C)3

D)4

E)5

Problème 3 : Il résout des problèmes du champ additif et multiplicatif.

A)10

B) 2

C) 8

D)12

E) 14