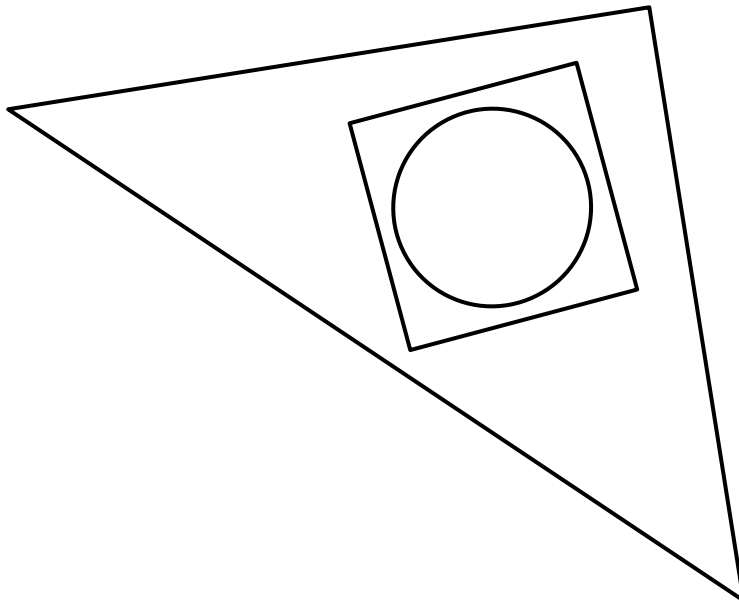


1



Que voyez-vous ?

- A- Un cercle et un carré à l'intérieur d'un rectangle.
- B- Un carré à l'intérieur d'un cercle et d'un triangle.
- C- Un cercle à l'intérieur d'un carré et d'un triangle.
- D- Un cercle et un triangle à l'intérieur d'un triangle.
- E- Un triangle et un cercle à l'intérieur d'un carré.

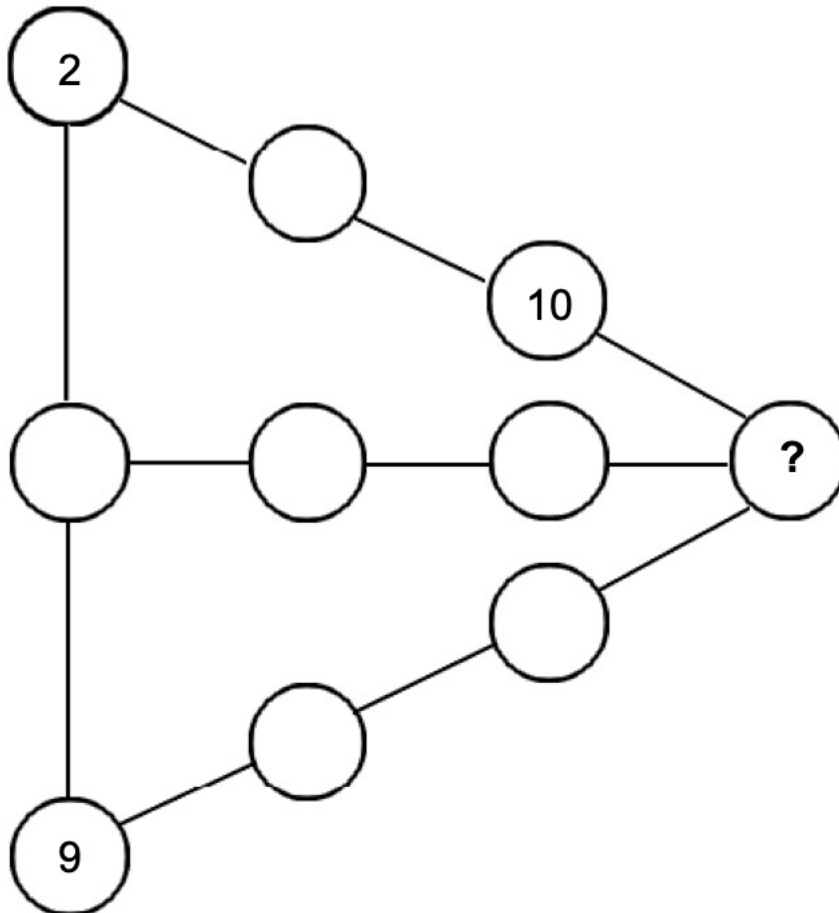
Réponse :

2

## MATERIEL EN ANNEXE

Place les nombres 1, 3, 4, 5, 6, 7, 8.

Sur chaque ligne tracée, la somme des nombres est égale à 19.



Quel nombre as-tu écrit à la place du point d'interrogation ?

Réponse :

3

Le matin au réveil, le nez de Pinocchio a pour longueur 5 cm.

Quand Pinocchio dit un mensonge, la fée aux cheveux bleus lui allonge le nez de 3 cm.

Quand il dit la vérité, la fée lui raccourcit le nez de 2 cm.

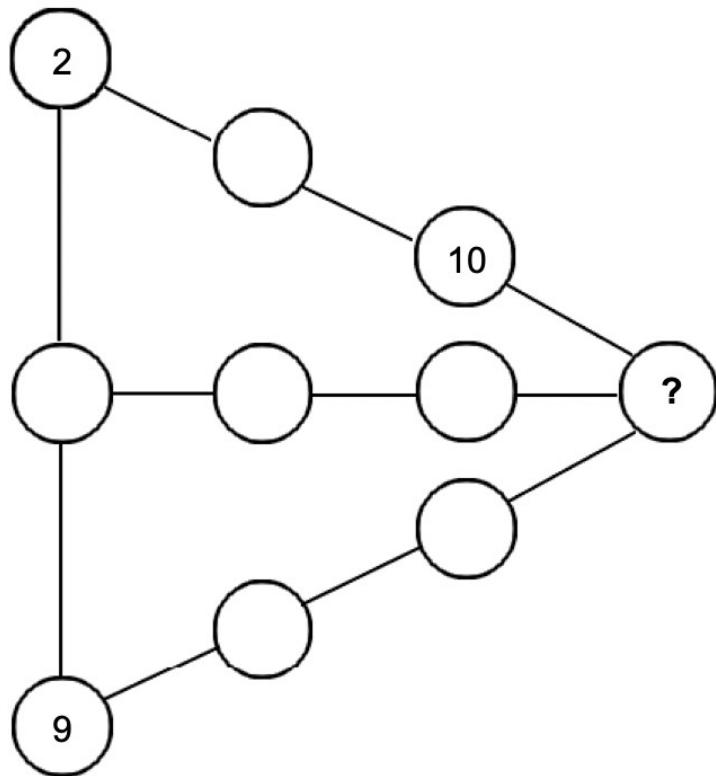
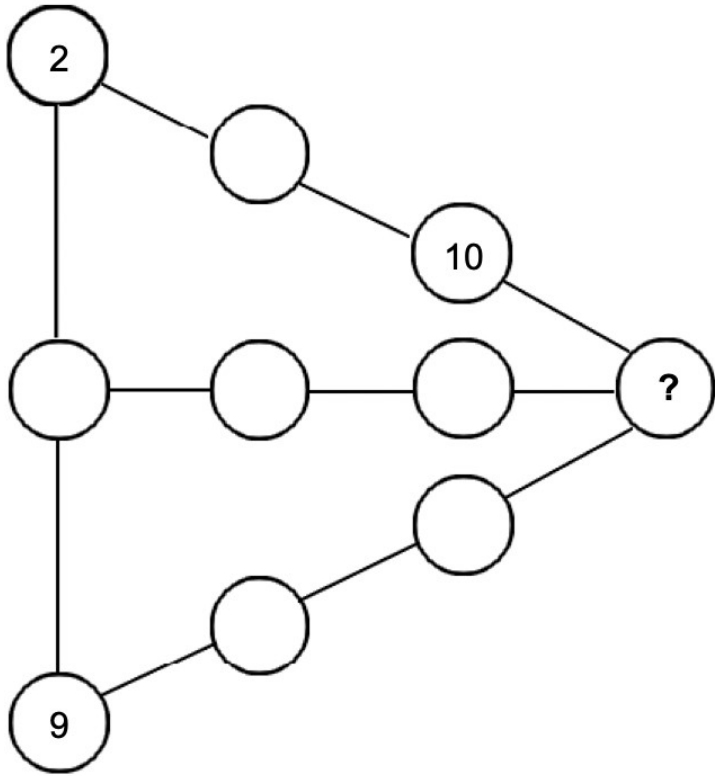
A la fin de la journée, Pinocchio a dit 7 mensonges et son nez a pour longueur 20 cm.

Combien de fois Pinocchio a-t-il dit la vérité au cours de la journée ?

Réponse :

# ANNEXES

2



Cette fiche réponse est à distribuer à chacun des groupes pour la phase de mise en commun durant les 10 dernières minutes. (Voir règlement général)

# REponses

**GROUPE :**

.....

Entourez la réponse pour chaque problème

Problème 1 :				
A) A	B) B	C) C	D) D	E) E
Problème 2 :				
A) 1	B) 3	C) 4	D) 5	E) 6
Problème 3 :				
A) 1	B) 2	C) 3	D) 5	E) 6

---

# REponses

**GROUPE :**

.....

Entourez la réponse pour chaque problème

Problème 1 :				
A) A	B) B	C) C	D) D	E) E
Problème 2 :				
A) 1	B) 3	C) 4	D) 5	E) 6
Problème 3 :				
A) 1	B) 2	C) 3	D) 5	E) 6

# REponses ATTENDUES

**Problème 1 :** Il reconnaît les figures usuelles suivantes : carré, rectangle, triangle et cercle et résout des problèmes de logique.

A) A

B) B

**C) C**

D) D

E) E

**Problème 2 :** Il résout des problèmes du champ additif.

**A) 1**

B) 3

C) 4

D) 5

E) 6

**Problème 3 :** Il résout des problèmes du champ additif, impliquant des longueurs.

A) 1

B) 2

**C) 3**

D) 5

E) 6