


Groupe :



Entraînement 6/6

1

Combien y a-t-il de carrés dans cette figure ?

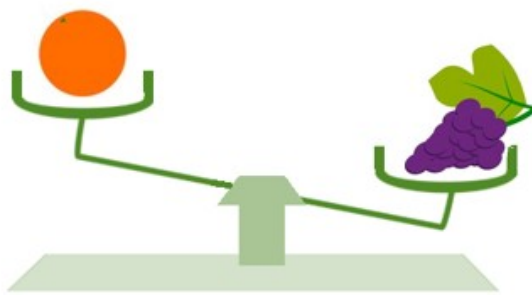
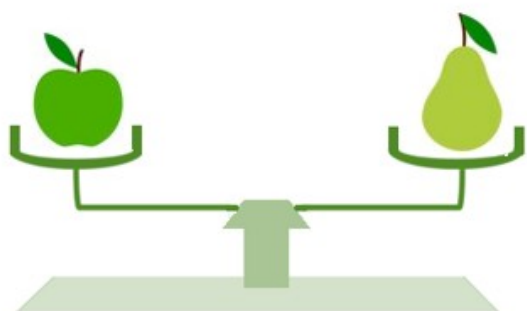
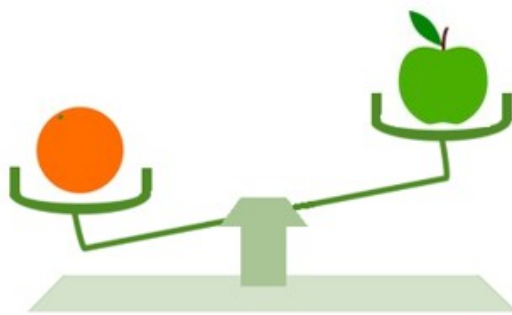
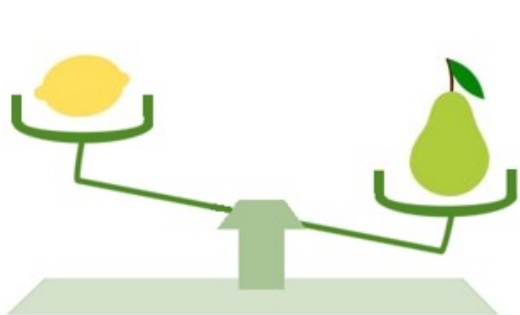


Réponse :

2

Louanne a pesé plusieurs fruits : une orange, une pomme, une poire, une grappe de raisin et un citron.

En regardant ces balances, pouvez-vous dire quel fruit est le plus lourd ?



Réponse :

3

Cloé et Mélissa sont deux copines qui adorent les énigmes.

Voici celle que Cloé propose à Mélissa :

« Mes livres sont rangés sur deux étagères.

Je les ai comptés hier soir et je sais que j'en ai 54 en tout.

Sur la deuxième étagère il y en a 12 de plus que sur la première. »

Combien y a-t-il de livres sur la deuxième étagère ?

Réponse :

Cette fiche réponse est à distribuer à chacun des groupes pour la phase de mise en commun durant les 10 dernières minutes. (Voir règlement général)

REponses

GROUPE :

.....

Entourez la réponse pour chaque problème

Problème 1 :				
A) 9	B) 11	C) 12	D) 13	E) Autre réponse
Problème 2 :				
A) raisin	B) pomme	C) poire	D) citron	E) orange
Problème 3 :				
A) 44	B) 42	C) 33	D) 21	E) Autre réponse

REponses

GROUPE :

.....

Entourez la réponse pour chaque problème

Problème 1 :				
A) 9	B) 11	C) 12	D) 13	E) Autre réponse
Problème 2 :				
A) raisin	B) pomme	C) poire	D) citron	E) orange
Problème 3 :				
A) 44	B) 42	C) 33	D) 21	E) Autre réponse

REponses ATTENDUES

Problème 1 : Reconnaître, nommer, décrire des figures simples ou complexes (assemblages de figures simples).

A) 9	B) 11	C) 12	D) 13	E) Autre réponse
------	-------	-------	--------------	------------------

Problème 2 : S'engager dans une démarche, observer, questionner, manipuler, expérimenter [...] en élaborant un raisonnement adapté à une situation nouvelle.

A) raisin	B) pomme	C) poire	D) citron	E) orange
------------------	----------	----------	-----------	-----------

Problème 3 : Prélever et organiser les informations nécessaires à la résolution de problèmes.

A) 44	B) 42	C) 33	D) 21	E) Autre réponse
-------	-------	--------------	-------	------------------