

RALLYE
MATH
SAVOIE

Groupe :



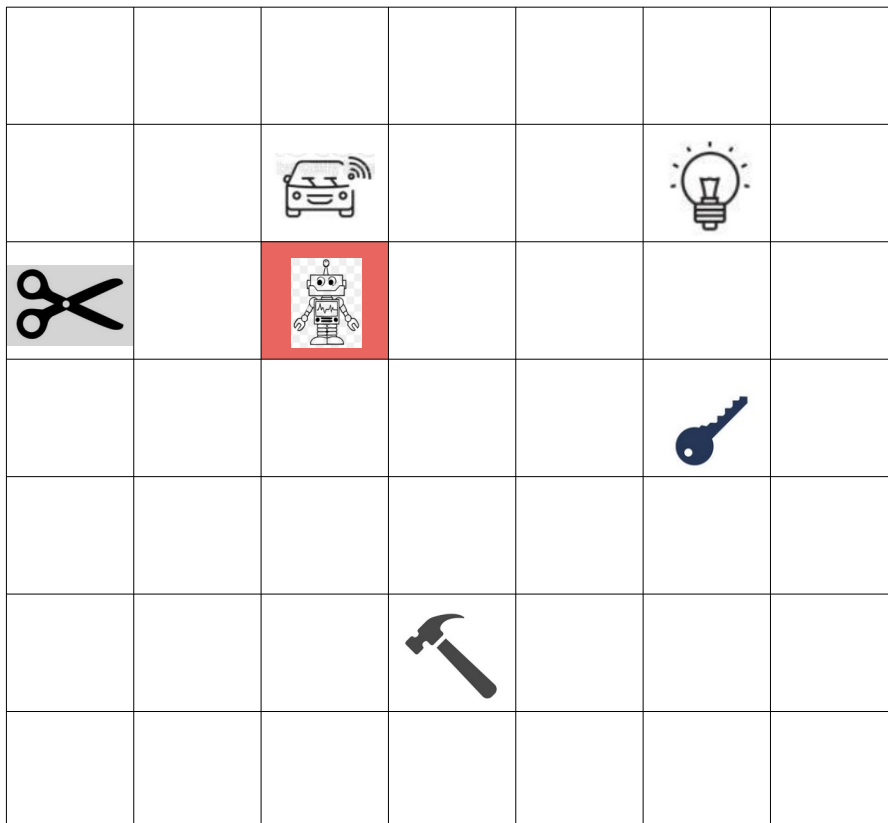
Entraînement 2/6

1

Lundi, en partant de la case rouge, Max le robot a attrapé l'ampoule avec ce chemin.



Mardi, en partant de la même case rouge, que va-t-il attraper avec ce chemin ?




Entourer l'objet

Groupe :

2


Dans cette ferme, il y a des cochons, des lapins et des canards.

Combien y a-t-il de pattes en tout ?



Réponse :

3



Lola a choisi une poupée.

Elle n'a pas de jupe, elle n'a pas de veste et elle a un chapeau.

Laquelle a-t-elle choisie ?

Réponse :

Cette fiche réponse est à distribuer à chacun des groupes pour la phase de mise en commun durant les 10 dernières minutes. (Voir règlement général)

REPONSES

GROUPE :

.....

Entourez la réponse pour chaque problème

Problème 1

A) La voiture	B) L'ampoule	C) La clé	D) Les ciseaux	E) le marteau
---------------	--------------	-----------	----------------	---------------

Problème 2

A) 50	B) 56	C) 18	D) 54	E) Autre réponse
-------	-------	-------	-------	------------------

Problème 3

A) Poupée A	B) Poupée C	C) Poupée D	D) Poupée E	E) Poupée F
-------------	-------------	-------------	-------------	-------------

REPONSES

GROUPE :

.....

Entourez la réponse pour chaque problème

Problème 1- L'élève utilise (ou il produit) une suite d'instructions qui codent un déplacement sur un quadrillage.

A) La voiture	B) L'ampoule	C) La clé	D) Les ciseaux	E) le marteau
---------------	--------------	-----------	----------------	---------------

Problème 2 - Il dénombre des collections en les organisant.

A) 50	B) 56	C) 18	D) 54	E) Autre réponse
-------	-------	-------	-------	------------------

Problème 3 - Il résout des problèmes en une ou deux étapes.

A) Poupée A	B) Poupée C	C) Poupée D	D) Poupée E	E) Poupée F
-------------	-------------	-------------	-------------	-------------

REPONSES ATTENDUES

Problème 1 - L'élève utilise (ou il produit) une suite d'instructions qui codent un déplacement sur un quadrillage.

A) La voiture	B) L'ampoule	C) La clé	D) Les ciseaux	E) le marteau
---------------	--------------	-----------	----------------	---------------

Problème 2 - Il dénombre des collections en les organisant.

A) 50	B) 56	C) 18	D) 54	E) Autre réponse
-------	-------	-------	-------	------------------

Problème 3 - Il résout des problèmes en une ou deux étapes.

A) Poupée A	B) Poupée C	C) Poupée D	D) Poupée E	E) Poupée F
-------------	-------------	-------------	-------------	-------------