

RALLYE
MATH
SAVOIE

Groupe :

Entraînement 3/6



1

Chez le garagiste, il y a 3 voitures et 2 motos qui n'ont plus de roues.

Combien de roues faut-il acheter ?



Réponse :

2

Timéo et Lila choisissent deux dés chacun pour avoir le même nombre de points.

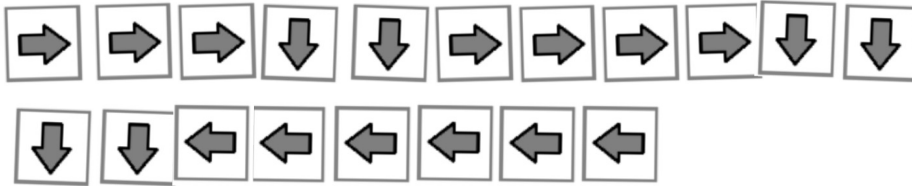
Quel dé reste sur la table ?









Réponse :

3

Vous êtes sur le voilier.
Que trouverez-vous en suivant ce chemin ?



Réponse :

Cette fiche réponse est à distribuer à chacun des groupes pour la phase de mise en commun durant les 10 dernières minutes. (Voir règlement général)

REponses

GROUPE :

.....

Entourez la réponse pour chaque problème

Problème 1				
A) 6	B) 8	C) 10	D) 14	E) 16
Problème 2				
A) 4	B) 3	C) 2	D) 5	E) 6
Problème 3				
A) le collier	B) la bague	C) le diamant	D) la couronne	E) le trésor

REponses

GROUPE :

.....

Entourez la réponse pour chaque problème

Problème 1				
A) 6	B) 8	C) 10	D) 14	E) 16
Problème 2				
A) 4	B) 3	C) 2	D) 5	E) 6
Problème 3				
A) le collier	B) la bague	C) le diamant	D) la couronne	E) le trésor

REPONSES ATTENDUES

Problème 1 - Résoudre des problèmes du champ additif en une ou deux étapes.

A) 6	B) 8	C) 10	D) 14	E) 16
------	------	-------	-------	-------

Problème 2 - Résoudre des problèmes du champ additif en une ou deux étapes.

A) 4	B) 3	C) 2	D) 5	E) 6
------	------	------	------	------

Problème 3 - Utiliser une suite d'instructions qui codent un déplacement.

A) le collier	B) la bague	C) le diamant	D) la couronne	E) le trésor
---------------	-------------	---------------	----------------	--------------