

# Fiche synthèse classe des scores pour la saisie des réponses

## MANCHE D'ENTRAÎNEMENT

Indiquez ci-dessous, pour chaque groupe, les réponses (A,B,C,D ou E) aux problèmes.


Fiche à conserver pour toute la durée de l'entraînement.

### RAPPEL :

La confrontation collective des différentes procédures est à privilégier pour aider les élèves à construire des démarches.

Les réponses sont à saisir en ligne à la fin des 6 semaines d'entraînement.

	Semaine 1			Semaine 2			Semaine 3			Semaine 4			Semaine 5			Semaine 6		
	Pb 1	Pb 2	Pb 3	Pb 1	Pb 2	Pb 3	Pb 1	Pb 2	Pb 3	Pb 1	Pb 2	Pb 3	Pb 1	Pb 2	Pb 3	Pb 1	Pb 2	Pb 3
Gr 1																		
Gr 2																		
Gr 3																		
Gr 4																		
Gr 5																		
Gr 6																		
Gr 7																		
Gr 8																		
Gr 9																		
Gr 10																		



# Fiche synthèse par groupe des scores pour la saisie des réponses

## MANCHE D'ENTRAÎNEMENT

Indiquez ci-dessous, votre réponse (A ,B, C, D ou E) aux problèmes.  
Gardez bien votre fiche jusqu'à la fin des semaines d'entraînement !

**RAPPEL :**

Les réponses sont à saisir en ligne à la fin des 6 semaines d'entraînement.

**GROUPE :**  
.....

	Semaine 1			Semaine 2			Semaine 3			Semaine 4			Semaine 5			Semaine 6		
	Pb 1	Pb 2	Pb 3	Pb 1	Pb 2	Pb 3	Pb 1	Pb 2	Pb 3	Pb 1	Pb 2	Pb 3	Pb 1	Pb 2	Pb 3	Pb 1	Pb 2	Pb 3
Gr																		

# Fiche synthèse par groupe des scores pour la saisie des réponses

## MANCHE D'ENTRAÎNEMENT

Indiquez ci-dessous, votre réponse (A ,B, C, D ou E) aux problèmes.  
Gardez bien votre fiche jusqu'à la fin des semaines d'entraînement !

**RAPPEL :**

Les réponses sont à saisir en ligne à la fin des 6 semaines d'entraînement.

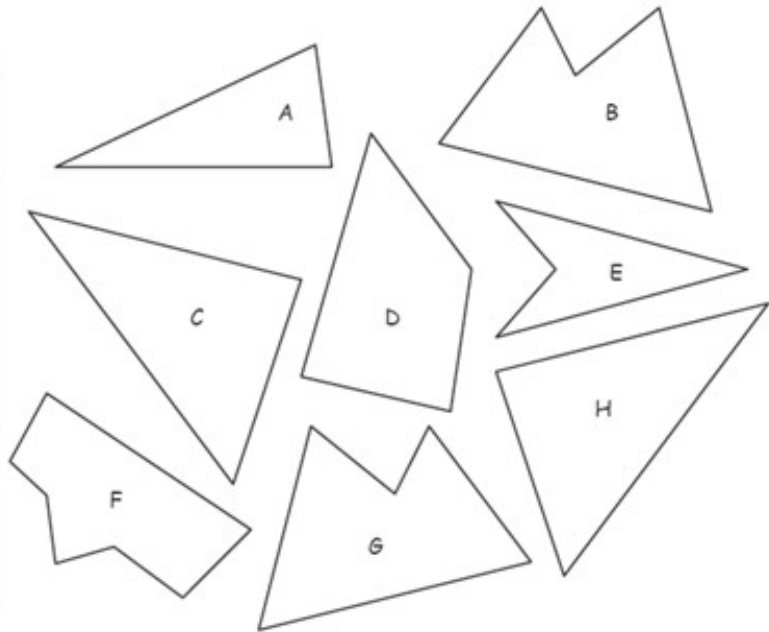
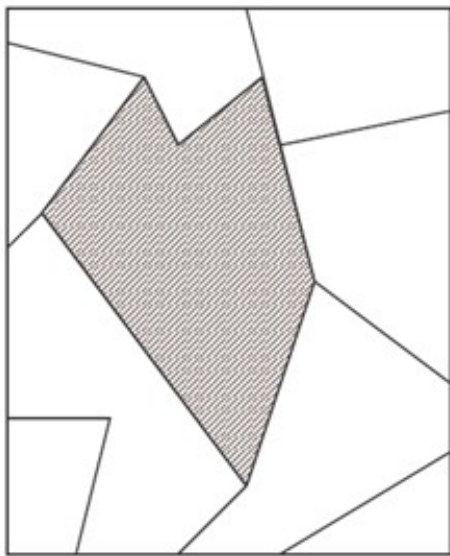
**GROUPE :**  
.....

	Semaine 1			Semaine 2			Semaine 3			Semaine 4			Semaine 5			Semaine 6		
	Pb 1	Pb 2	Pb 3	Pb 1	Pb 2	Pb 3	Pb 1	Pb 2	Pb 3	Pb 1	Pb 2	Pb 3	Pb 1	Pb 2	Pb 3	Pb 1	Pb 2	Pb 3
Gr																		

1

**MATERIEL EN ANNEXE**

Choisissez deux formes pour remplir la partie grisée du puzzle.  
 (Attention, les lettres doivent être visibles)



Réponse :

2

Trouvez le numéro du ticket gagnant :

- Le carré est dessiné au-dessus du rectangle.
- Dans le rectangle se trouve un triangle.
- Un cercle est dessiné sous le rectangle.

loto ○ △ □	loto □ ○ △	loto □ △ ○	loto □ △ □	loto □ □ ○	loto ○ □ △	loto △ ○ □
1	2	3	4	5	6	7

Réponse :

3

Je suis un nombre à deux chiffres.  
 La somme de mes deux chiffres est 7.  
 Je suis plus grand que 26 et plus petit que 44.  
 Mon chiffre des dizaines est plus petit que  
 mon chiffre des unités.

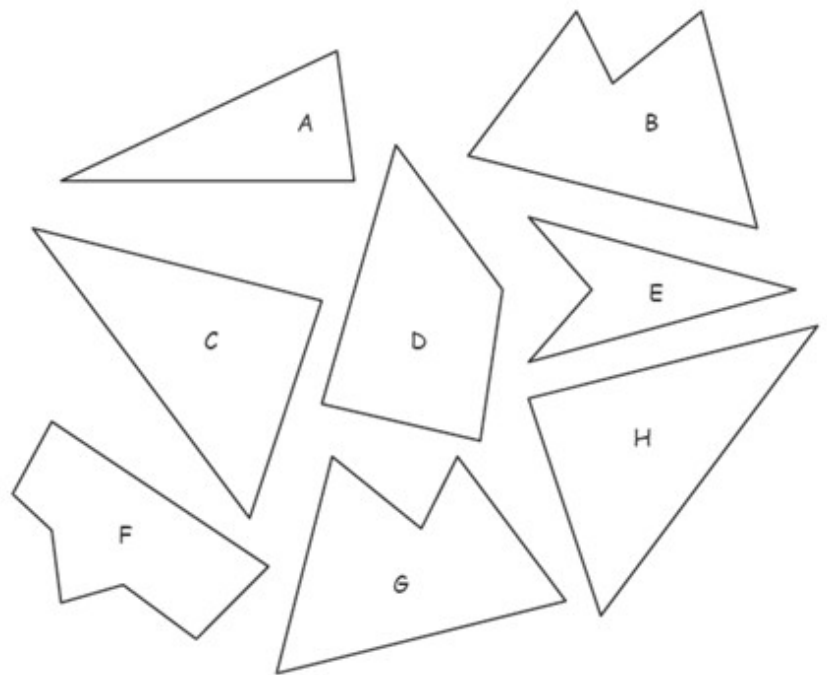
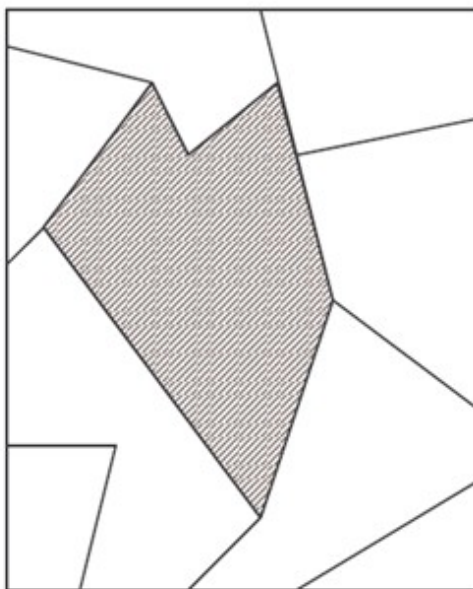
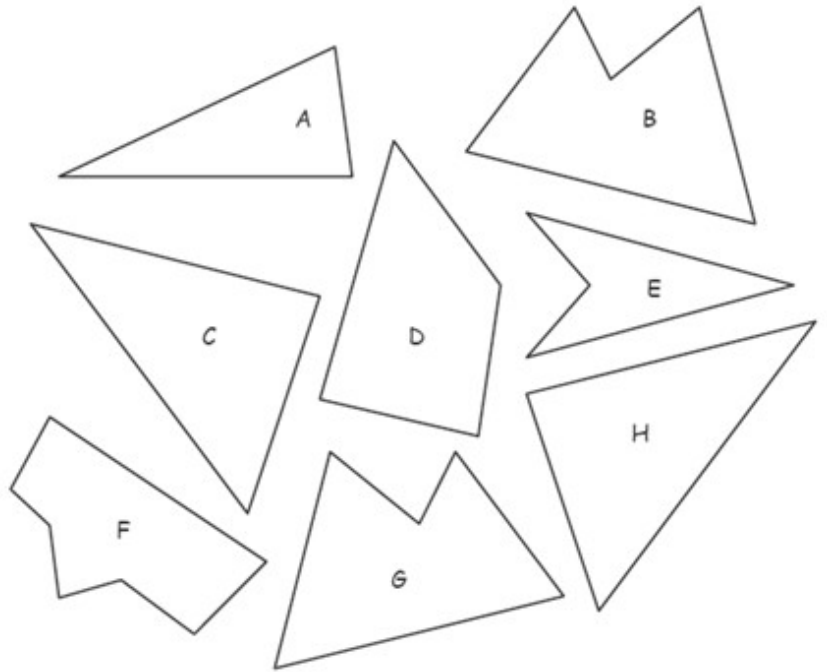
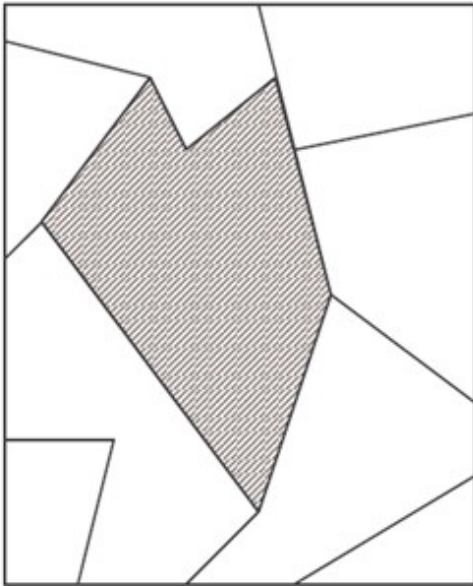
Qui suis-je ?

Réponse :

# ANNEXES

1

*Tu peux découper et faire pivoter les pièces mais pas les retourner.*



Cette fiche réponse est à distribuer à chacun des groupes pour la phase de mise en commun durant les 10 dernières minutes. (Voir règlement général)

# REponses

**GROUPE :**

.....

Entourez la réponse pour chaque problème.

Problème 1 :				
A) G et H	B) G et A	C) B et H	D) B et C	E) Autre réponse
Problème 2 :				
A) 1	B) 2	C) 3	D) 6	E) 7
Problème 3 :				
A) 43	B) 25	C) 34	D) 52	E) Autre réponse

# REponses

**GROUPE :**

.....

Entourez la réponse pour chaque problème.

Problème 1 :				
A) G et H	B) G et A	C) B et H	D) B et C	E) Autre réponse
Problème 2 :				
A) 1	B) 2	C) 3	D) 6	E) 7
Problème 3 :				
A) 43	B) 25	C) 34	D) 52	E) Autre réponse

# REPONSES ATTENDUES

**Problème 1 :** Repérer des figures dans un assemblage.

A) G et H	B) G et A	C) B et H	D) <b>B et C</b>	E) Autre réponse
-----------	-----------	-----------	------------------	------------------

**Problème 2 :** Situer des objets et reconnaître les figures usuelles.

A) 1	B) 2	C) <b>3</b>	D) 6	E) 7
------	------	-------------	------	------

**Problème 3 :** Connaître la valeur des chiffres en fonction de leur position.

A) 43	B) 25	C) <b>34</b>	D) 52	E) Autre réponse
-------	-------	--------------	-------	------------------