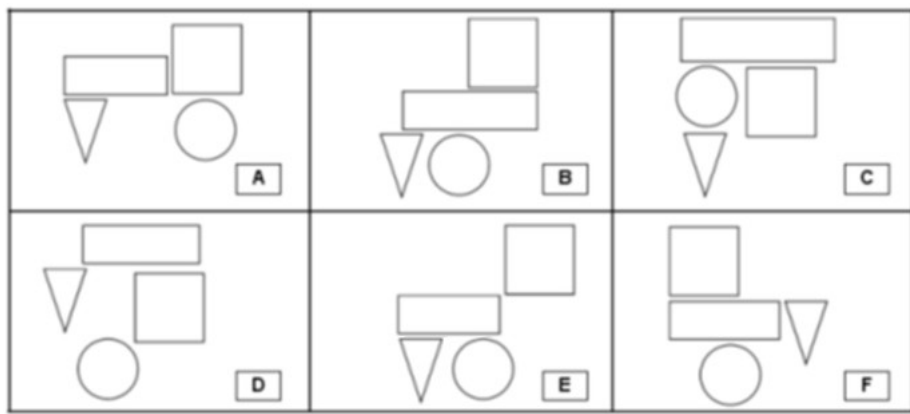
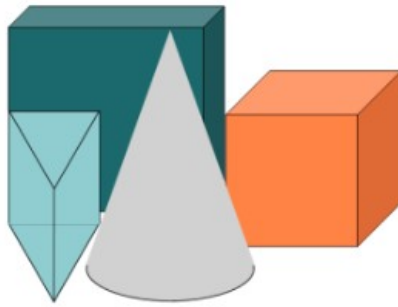


1


Si vous regardez ces objets en vous plaçant au-dessus, quelle image verrez-vous ?



Réponse :

2

Quel est le chien le plus léger ?



Réponse :

3

Dans son porte-monnaie, Lisa a autant de billets de 5 euros que de pièces de 2 euros. Elle possède en tout 42 euros.

Combien Lisa a-t-elle de billets dans son porte-monnaie ?

*Si besoin, fournir du matériel pour manipuler.*

Réponse :

Cette fiche réponse est à distribuer à chacun des groupes pour la phase de mise en commun durant les 10 dernières minutes. (Voir règlement général)

# REponses

**GROUPE :**

.....

Entourez la réponse pour chaque problème

| Problème 1 : |              |              |               |                  |
|--------------|--------------|--------------|---------------|------------------|
| A) image E   | B) image D   | C) image A   | D) image F    | E) Autre réponse |
| Problème 2 : |              |              |               |                  |
| A) n°1       | B) n°2       | C) n°3       | D) n°4        | E) n°5           |
| Problème 3 : |              |              |               |                  |
| A) 3 billets | B) 6 billets | C) 9 billets | D) 12 billets | E) 30 billets    |

# REponses

**GROUPE :**

.....

Entourez la réponse pour chaque problème

| Problème 1 : |              |              |               |                  |
|--------------|--------------|--------------|---------------|------------------|
| A) image E   | B) image D   | C) image A   | D) image F    | E) Autre réponse |
| Problème 2 : |              |              |               |                  |
| A) n°1       | B) n°2       | C) n°3       | D) n°4        | E) n°5           |
| Problème 3 : |              |              |               |                  |
| A) 3 billets | B) 6 billets | C) 9 billets | D) 12 billets | E) 30 billets    |

# REPONSES ATTENDUES

**Problème 1 :** Reconnaître les figures et les solides usuels.

|            |            |            |            |                  |
|------------|------------|------------|------------|------------------|
| A) image E | B) image D | C) image A | D) image F | E) Autre réponse |
|------------|------------|------------|------------|------------------|

**Problème 2 :** Résoudre des problèmes en une ou deux étapes impliquant des masses.

|        |        |        |        |        |
|--------|--------|--------|--------|--------|
| A) n°1 | B) n°2 | C) n°3 | D) n°4 | E) n°5 |
|--------|--------|--------|--------|--------|

**Problème 3 :** Résoudre des problèmes du champ additif et multiplicatif en une ou deux étapes.

|              |              |              |               |               |
|--------------|--------------|--------------|---------------|---------------|
| A) 3 billets | B) 6 billets | C) 9 billets | D) 12 billets | E) 30 billets |
|--------------|--------------|--------------|---------------|---------------|