

1

MATERIELE EN ANNEXE

Dans la cour de la ferme, il y a des poules et des lapins en liberté.
On compte 12 têtes et 34 pattes.

Combien y a-t-il de poules et de lapins ?




Réponse :

Il y a poules et lapins.

2


Quel est le chien le plus léger ?





Réponse :

3

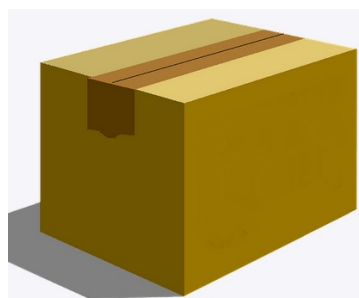
Les frères Grenouilles ont attrapé des libellules.
Combien ont-ils de libellules en tout ?



- J'en ai 14 !



- J'en ai attrapé le même nombre que toi.
Elles sont dans la boîte.



- Moi aussi ! 14 !
Elles sont dans mon sac !


















Des cubes ou des jetons peuvent être mis à disposition.

Réponse :

ANNEXES

1



Cette fiche réponse est à distribuer à chacun des groupes pour la phase de mise en commun durant les 10 dernières minutes. (Voir règlement général)

REPONSES

GROUPE :

.....

Entourez la réponse pour chaque problème

Problème 1				
A) 12 poules et 34 lapins.	B) 6 poules et 6 lapins.	C) 7 poules et 5 lapins.	D) 5 poules et 7 lapins.	E) Autre réponse.
Problème 2				
A) n°1	B) n°2	C) n°3	D) n°4	E) n°5
Problème 3				
A) 28	B) 48	C) 40	D) 42	E) Autre réponse.

REPONSES

GROUPE :

.....

Entourez la réponse pour chaque problème

Problème 1				
A) 12 poules et 34 lapins.	B) 6 poules et 6 lapins.	C) 7 poules et 5 lapins.	D) 5 poules et 7 lapins.	E) Autre réponse.
Problème 2				
A) n°1	B) n°2	C) n°3	D) n°4	E) n°5
Problème 3				
A) 28	B) 48	C) 40	D) 42	E) Autre réponse.

REponses ATTENDUES

Problème 1 - Résoudre des problèmes du champ additif.

A) 12 poules et 34 lapins.	B) 6 poules et 6 lapins.	C) 7 poules et 5 lapins.	D) 5 poules et 7 lapins.	E) Autre réponse.
----------------------------	--------------------------	--------------------------	--------------------------	-------------------

Problème 2 - Résoudre des problèmes en une ou deux étapes impliquant des masses.

A) n°1	B) n°2	C) n°3	D) n°4	E) n°5
--------	--------	--------	--------	--------

Problème 3 - Résoudre des problèmes en mobilisant ses compétences du champ additif, ou en manipulant, des problèmes du champ multiplicatif.

A) 28	B) 48	C) 40	D) 42	E) Autre réponse.
-------	-------	-------	-------	-------------------