

RALLYE  
MATH  
SAVOIE

Groupe :



Entraînement 4/6

1

Je suis un nombre à trois chiffres.

Je suis inférieur à 400.

Mon chiffre des unités est le double de mon chiffre des dizaines.

Mon chiffre des centaines est le même que mon chiffre des dizaines.

La somme de mes chiffres est 8.

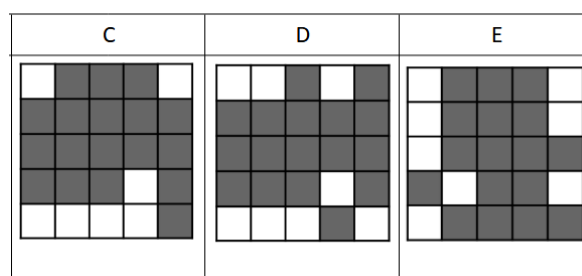
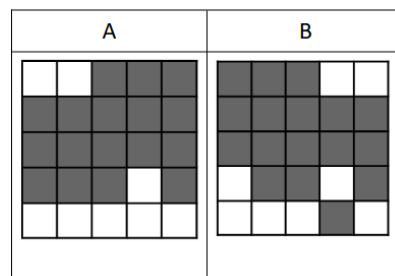
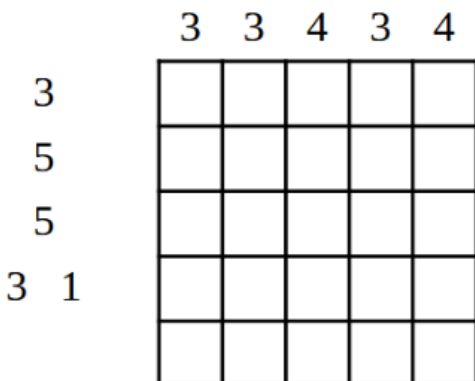
Qui suis-je ?

Réponse :

2

MATERIEL EN ANNEXE


Quelle solution correspond à cette grille ?




Réponse :

3

Combien coûte un camion ?



40 €

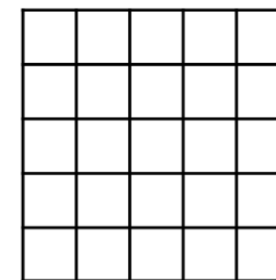
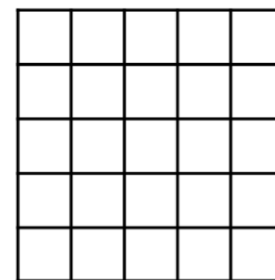

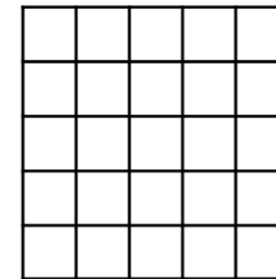
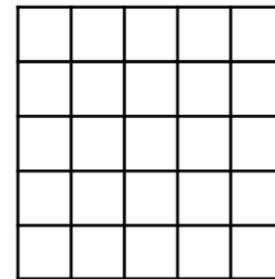
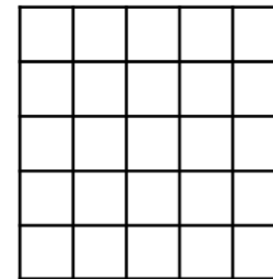
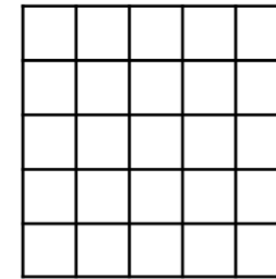
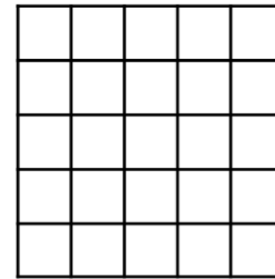

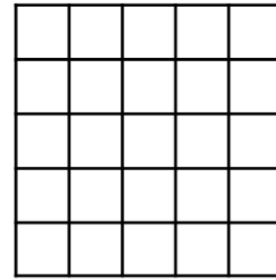
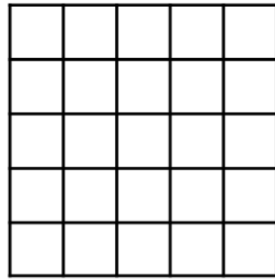

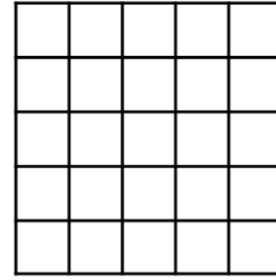
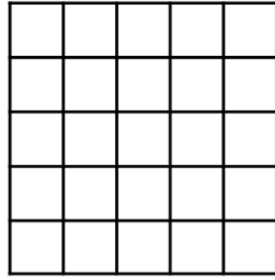
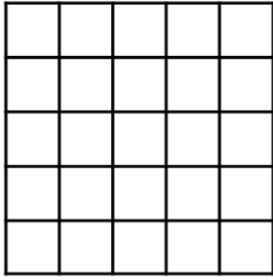

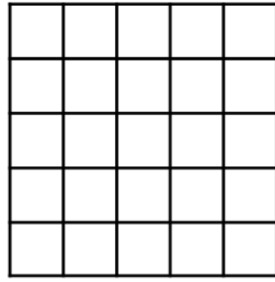
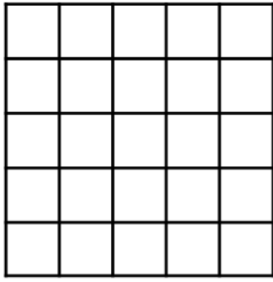


55 €

Réponse :

# ANNEXES

2



Cette fiche réponse est à distribuer à chacun des groupes pour la phase de mise en commun durant les 10 dernières minutes. (Voir règlement général)

# REponses

**GROUPE :**

.....

Entourez la réponse pour chaque problème

Problème 1 :				
A) 116	B) 224	C) 332	D) 440	E) 800
Problème 2 :				
A) A	B) B	C) C	D) D	E) E
Problème 3 :				
A) 10 €	B) 15 €	C) 20 €	D) 25 €	E) Autre réponse

# REponses

**GROUPE :**

.....

Entourez la réponse pour chaque problème

Problème 1 :				
A) 116	B) 224	C) 332	D) 440	E) 800
Problème 2 :				
A) A	B) B	C) C	D) D	E) E
Problème 3 :				
A) 10 €	B) 15 €	C) 20 €	D) 25 €	E) Autre réponse

# REPONSES ATTENDUES

**Problème 1 :** Connaître la valeur des chiffres en fonction de leur position.

A) 116	B) 224	C) 332	D) 440	E) 800
--------	--------	--------	--------	--------

**Problème 2 :** Utiliser une suite d'instructions qui codent un déplacement sur un quadrillage.

A) A	B) B	C) C	D) D	E) E
------	------	------	------	------

**Problème 3 :** Résoudre des problèmes en une ou deux étapes impliquant des prix.

A) 10 €	B) 15 €	C) 20 €	D) 25 €	E) Autre réponse
---------	---------	---------	---------	------------------