



Groupe :



Entraînement 2/6

1

MATERIEL EN ANNEXE



Vous pouvez utiliser 3 couleurs différentes (rouge, jaune et bleu) pour colorier des carrés de Mac Mahon. Combien de carrés de 2 couleurs sans case vide pouvez-vous trouver au maximum ?

Réponse :

2

Anne a une collection de 74 timbres. Elle les range dans des pochettes de 12.  
Combien de timbres lui manque-t-il pour compléter la dernière pochette ?

Réponse :

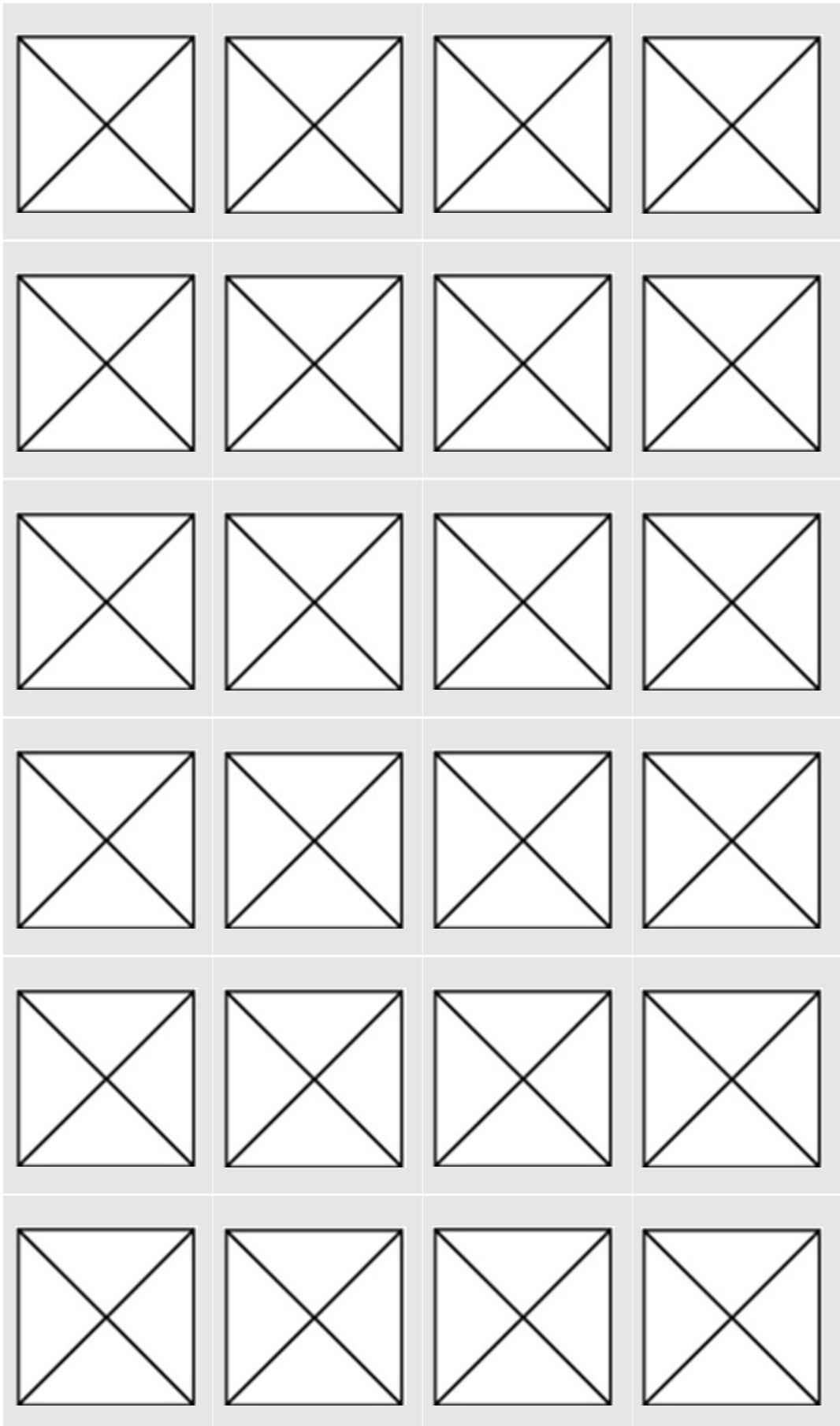
3

Je suis un nombre à 3 chiffres. Mon chiffre des dizaines est 2.  
Mon chiffre des centaines est le double de celui des unités.  
Quand j'additionne tous mes chiffres, je trouve 11.  
Quel nombre suis-je ?

Réponse :

# ANNEXES

1



Cette fiche réponse est à distribuer à chacun des groupes pour la phase de mise en commun durant les 10 dernières minutes. (Voir règlement général)

# REponses

**GROUPE :**

.....

Entourez la réponse pour chaque problème

Problème 1 :				
A) 6	B) 12	C) 10	D) 7	E) 15
Problème 2 :				
A) 10	B) 2	C) 8	D) 12	E) 14
Problème 3 :				
A) 211	B) 234	C) 423	D) 623	E) 726

# REponses

**GROUPE :**

.....

Entourez la réponse pour chaque problème

Problème 1 :				
A) 6	B) 12	C) 10	D) 7	E) 15
Problème 2 :				
A) 10	B) 2	C) 8	D) 12	E) 14
Problème 3 :				
A) 211	B) 234	C) 423	D) 623	E) 726

# REponses ATTENDUES

**Problème 1 : Résoudre un problème par organisation.**

A) 6

B) 12

C) 10

D) 7

E) 15

**Problème 2 : Résoudre un problème à plusieurs étapes.**

A) 10

B) 2

C) 8

D) 12

E) 14

**Problème 3 : Nommer, lire, écrire, représenter des nombres entiers.**

A) 211

B) 234

C) 423

D) 623

E) 726