

1

Dans une école maternelle, les élèves peuvent utiliser des vélos à deux roues ou des tricycles. A la fin de la récréation, quand tous les vélos sont rangés, on peut voir 18 guidons et 52 roues.

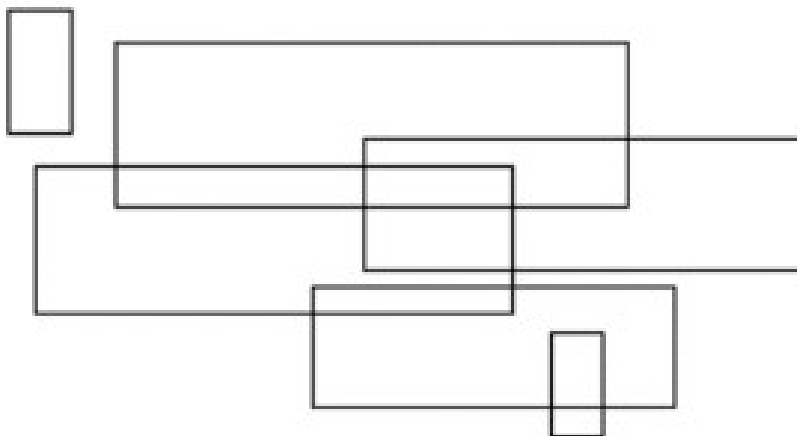
Combien l'école possède-t-elle de tricycles ?



Réponse :


2

Combien y a-t-il de rectangles ?




Réponse :

3



40 €



55 €

Combien coûte un camion ?

Réponse :

Cette fiche réponse est à distribuer à chacun des groupes pour la phase de mise en commun durant les 10 dernières minutes. (Voir règlement général)

REPONSES

GROUPE :

.....

Entourez la réponse pour chaque problème

Problème 1 :				
A) 8	B) 9	C) 16	D) 18	E) 34
Problème 2 :				
A) 6	B) 8	C) 12	D) 15	E) 17
Problème 3 :				
A) 10 €	B) 15 €	C) 20 €	D) 25 €	E) Autre réponse

REPONSES

GROUPE :

.....

Entourez la réponse pour chaque problème

Problème 1 :				
A) 8	B) 9	C) 16	D) 18	E) 34
Problème 2 :				
A) 6	B) 8	C) 12	D) 15	E) 17
Problème 3 :				
A) 10 €	B) 15 €	C) 20 €	D) 25 €	E) Autre réponse

REPONSES ATTENDUES

Problème 1 : Résoudre des problèmes de calcul par essais et ajustements.

A) 8

B) 9

C) 16

D) 18

E) 34

Problème 2 : Reconnaître des figures géométriques.

A) 6

B) 8

C) 12

D) 15

E) 17

Problème 3 : Résoudre des problèmes en une ou deux étapes.

A) 10 €

B) 15 €

C) 20 €

D) 25 €

E) Autre réponse