

Groupe :



Entraînement 4/6

1

Je suis un nombre à 4 chiffres dont le chiffre des dizaines est 4. Mon chiffre des milliers est le triple de mon chiffre des centaines qui est la moitié de mon chiffre des dizaines. Quand j'additionne tous mes chiffres, j'obtiens 12.

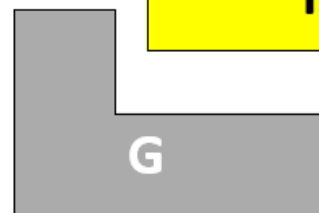
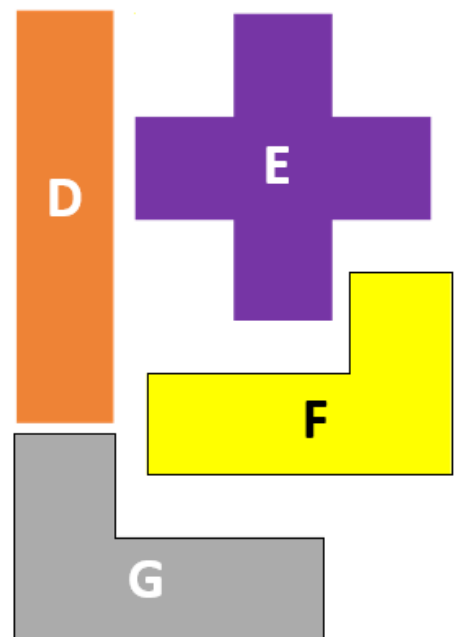
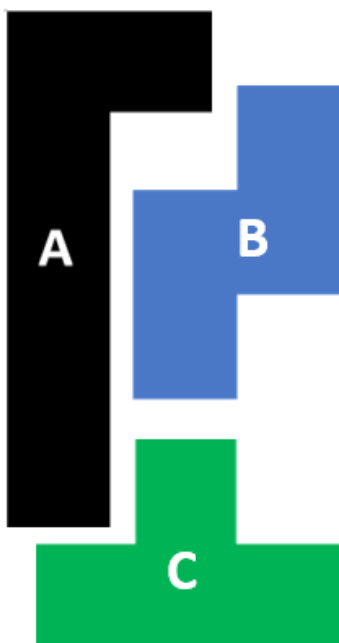
Quel nombre suis-je ?

Réponse :

2

### MATERIELE EN ANNEXE


Louise doit compléter sa grille avec les pièces ci-dessous mais elle a une pièce en trop. De quelle pièce s'agit-il ?



Réponse :

3


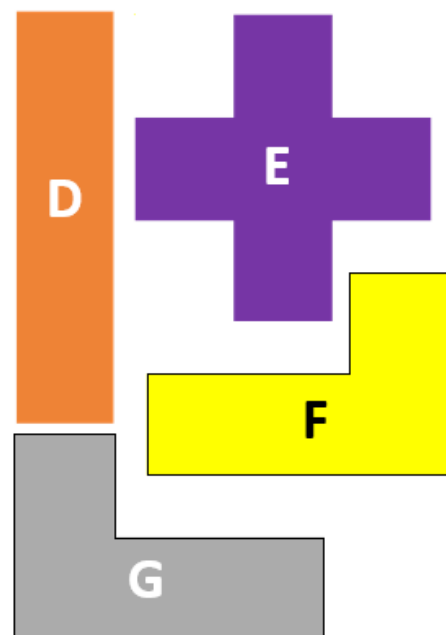

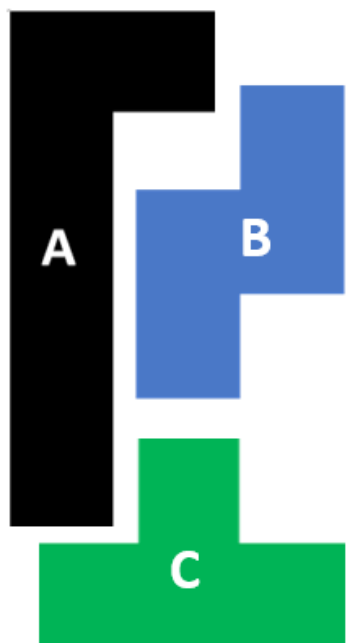
Mila réalise une mosaïque avec des petits carreaux en forme de losange mais elle n'en a pas commandé suffisamment. Combien doit-elle en racheter pour pouvoir terminer sa mosaïque ?




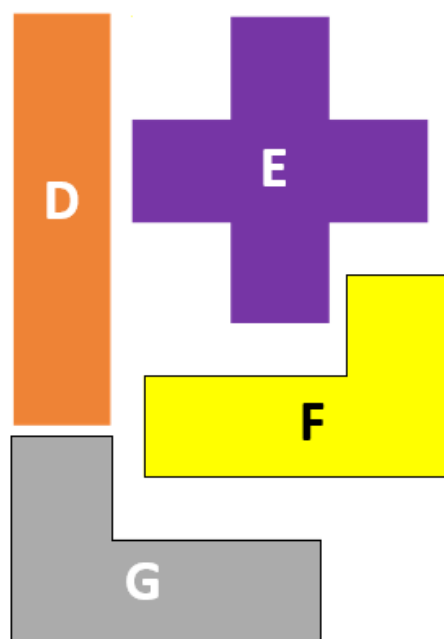

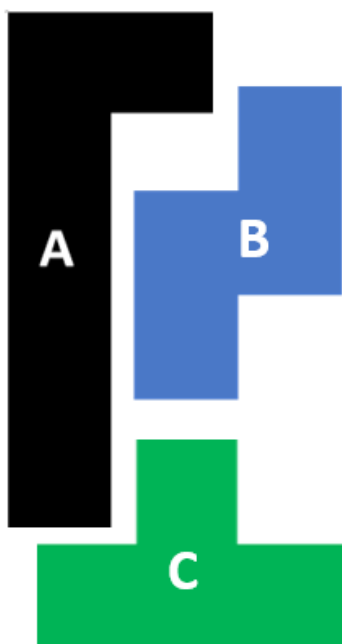
Réponse :

# ANNEXES

2



2



Cette fiche réponse est à distribuer à chacun des groupes pour la phase de mise en commun durant les 10 dernières minutes. (Voir règlement général)

# REponses

**GROUPE :**

.....

Entourez la réponse pour chaque problème

Problème 1 :				
A) 6 240	B) 6 511	C) 2 412	D) 4 246	E) Autre réponse
Problème 2 :				
A) pièce E	B) pièce A	C) pièce G	D) pièce B	E) Autre réponse
Problème 3 :				
A) 17	B) 19	C) 21	D) 23	E) Autre réponse

# REponses

**GROUPE :**

.....

Entourez la réponse pour chaque problème

Problème 1 :				
A) 6 240	B) 6 511	C) 2 412	D) 4 246	E) Autre réponse
Problème 2 :				
A) pièce E	B) pièce A	C) pièce G	D) pièce B	E) Autre réponse
Problème 3 :				
A) 17	B) 19	C) 21	D) 23	E) Autre réponse

# REPONSES ATTENDUES

**Problème 1 : Utiliser et représenter des nombres entiers.**

A) 6 240	B) 6 511	C) 2 412	D) 4 246	E) Autre réponse
----------	----------	----------	----------	------------------

**Problème 2 : Résoudre des problèmes de géométrie.**

A) pièce E	B) pièce A	C) pièce G	D) pièce B	E) Autre réponse
------------	------------	------------	------------	------------------

**Problème 3 : Reconnaître, nommer, décrire des figures simples ou complexes (assemblage de figures simples).**

A) 17	B) 19	C) 21	D) 23	E) Autre réponse
-------	-------	-------	-------	------------------