


1

Voici une suite logique de nombres : 89 ; 87 ; 83 ; 77 ; 69...
Quel est le nombre suivant ?

Réponse :

2

MATERIEL EN ANNEXE



Choisissez la bonne réponse :

- A. Les deux constructions ont la même aire et le même périmètre
- B. La construction noire a une aire plus grande que la construction blanche. Et la construction noire a un périmètre plus grand que la construction blanche.
- C. La construction noire a une aire plus petite que la construction blanche. Et la construction noire a un périmètre plus petit que la construction blanche.
- D. La construction noire a une aire plus grande que la construction blanche. Et la construction noire a un périmètre plus petit que la construction blanche.
- E. La construction noire a une aire plus petite que la construction blanche. Et la construction noire a un périmètre plus grand que la construction blanche.

Réponse :

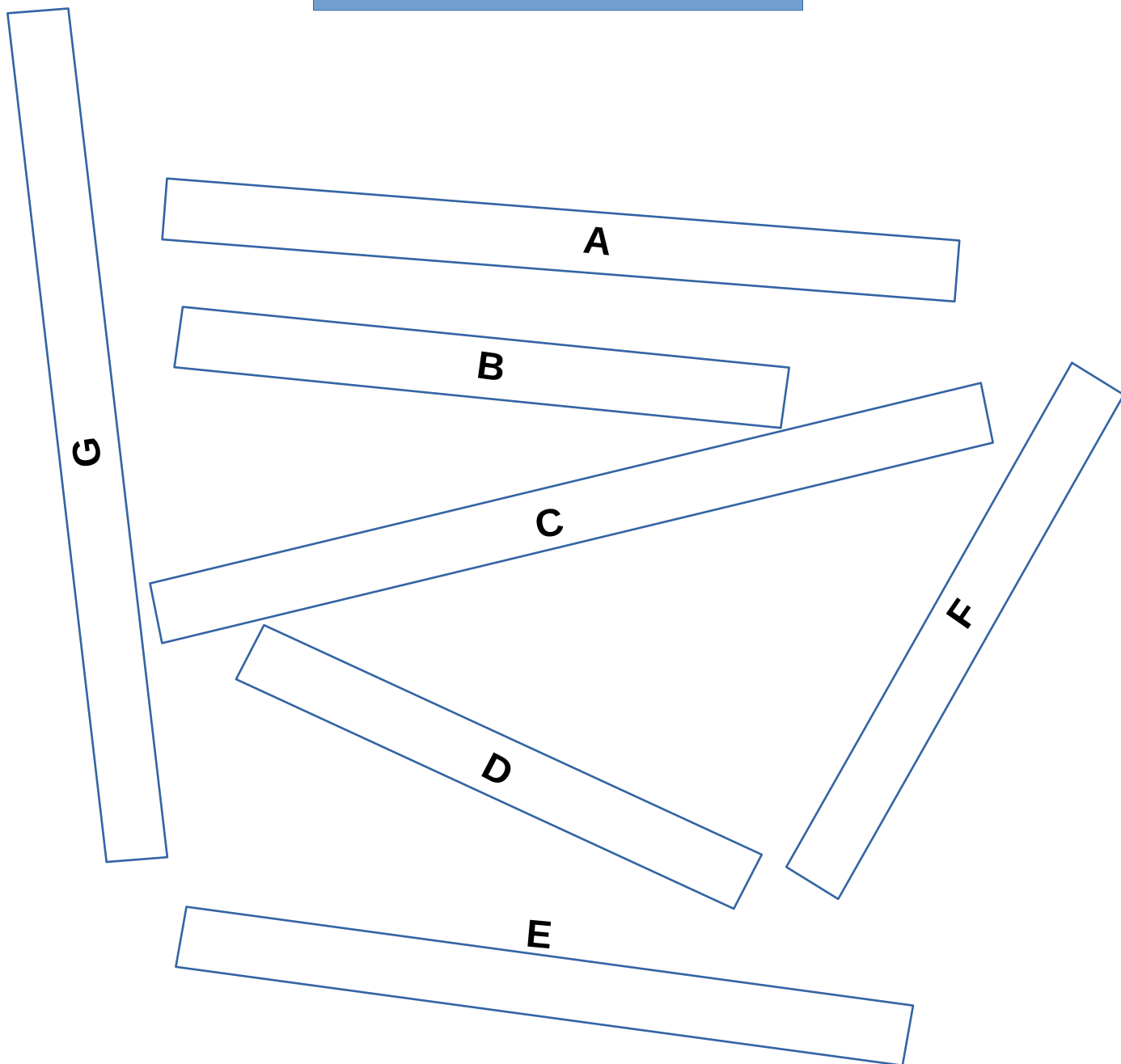
3

MATERIEL EN ANNEXE

Retrouvez les deux bandes qui ont exactement la même longueur en utilisant la bande unité U.

Le recours à la règle est interdit


U



Réponse :

ANNEXES

1



ANNEXES

3

U

U

U

U

U

U

U

U

U

U

U

U

U

U

U

U

U

U

U

U

U

U

U

U

U

U

U

U

U

U

Cette fiche réponse est à distribuer à chacun des groupes pour la phase de mise en commun durant les 10 dernières minutes. (Voir règlement général)

REponses

GROUPE :

.....

Entourez la réponse pour chaque problème

Problème 1 :				
A) 63	B) 61	C) 59	D) 57	E) 55
Problème 2 :				
A) Réponse A	B) Réponse B	C) Réponse C	D) Réponse D	E) Réponse E
Problème 3 :				
A) A et E	B) C et G	C) E et F	D) B et D	E) Autre réponse

REponses

GROUPE :

.....

Entourez la réponse pour chaque problème

Problème 1 :				
A) 63	B) 61	C) 59	D) 57	E) 55
Problème 2 :				
A) Réponse A	B) Réponse B	C) Réponse C	D) Réponse D	E) Réponse E
Problème 3 :				
A) A et E	B) C et G	C) E et F	D) B et D	E) Autre réponse

REPONSES ATTENDUES

Problème 1 : Calculer avec des nombres entiers et des nombres décimaux.

A) 63	B) 61	C) 59	D) 57	E) 55
-------	-------	-------	-------	-------

Problème 2 : Comparer, estimer, mesurer des grandeurs géométriques avec des nombres entiers et des nombres décimaux.

A) Réponse A	B) Réponse B	C) Réponse C	D) Réponse D	E) Réponse E
-----------------	-----------------	-----------------	-----------------	-----------------

Problème 3 : Utiliser les fractions simples dans le cadre de partages de grandeurs ou de mesures de grandeurs et des fractions décimales.

A) A et E	B) C et G	C) E et F	D) B et D	E) Autre réponse
-----------	-----------	-----------	-----------	---------------------