

Groupe :



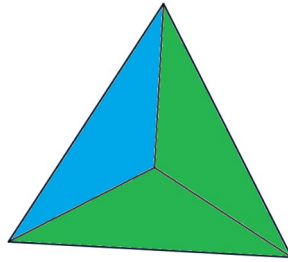
Entraînement 3/6

1

### MATERIEEL EN ANNEXE

Vous pouvez utiliser 3 couleurs différentes (rouge, vert et bleu) pour colorier des triangles de Mac Mahon.


Combien de triangles de 2 couleurs sans case vide avec obligatoirement au moins une case verte peut-on trouver ?



Réponse :

2

Quel fruit est le plus léger ?



Réponse :

3

# MATERIELE EN ANNEXE

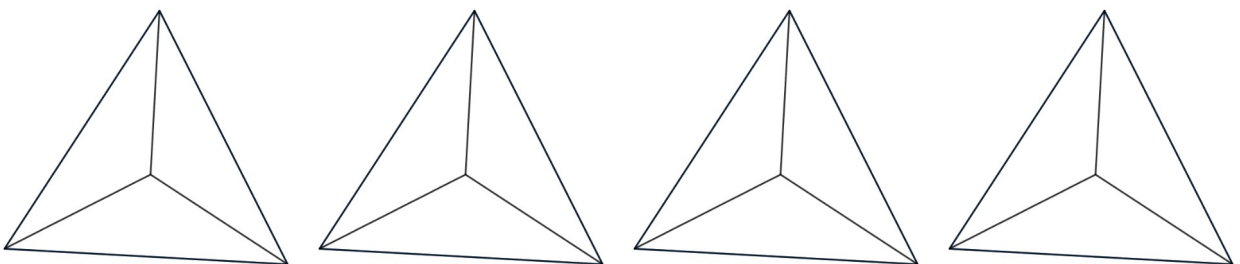
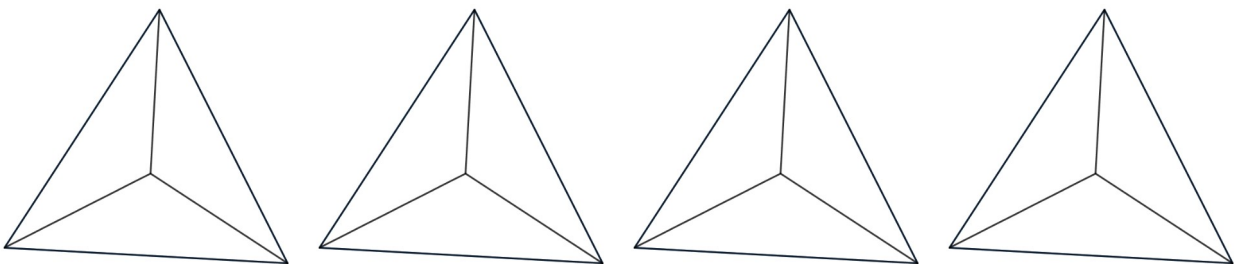
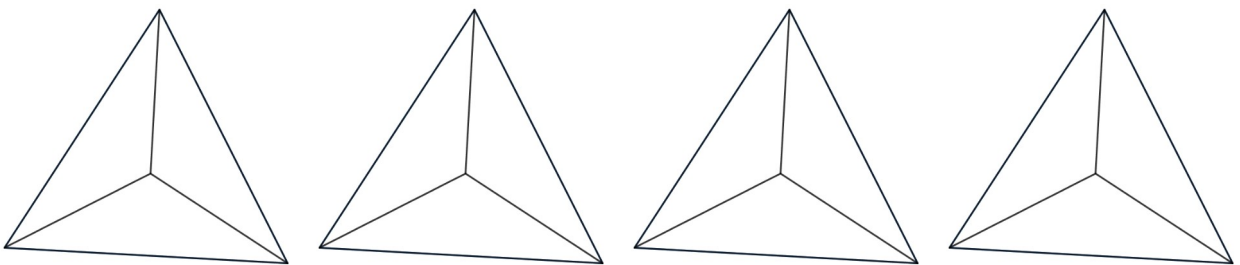
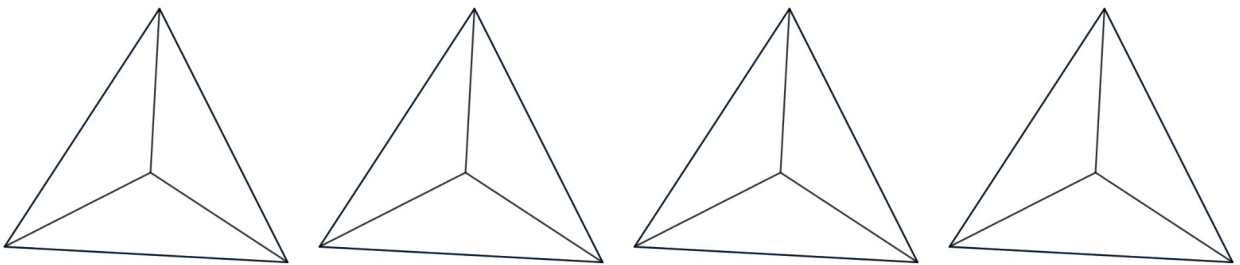
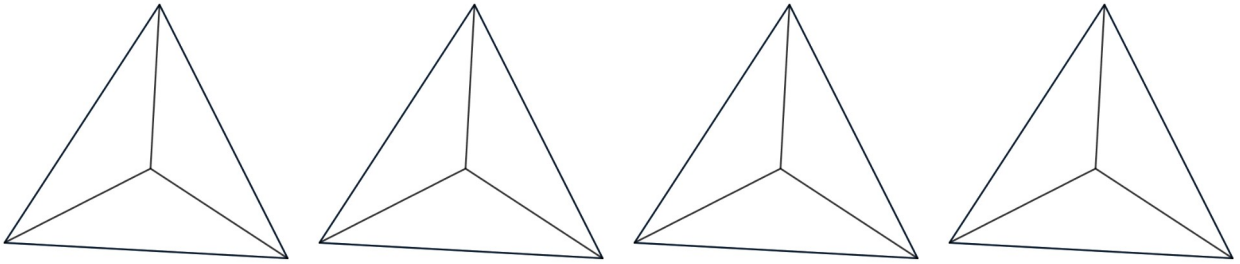


Combien y a-t-il d'oiseaux ?

Réponse :

# ANNEXES

1



# ANNEXES

3



3



Cette fiche réponse est à distribuer à chacun des groupes pour la phase de mise en commun durant les 10 dernières minutes. (Voir règlement général)

# REponses

**GROUPE :**

.....

Entourez la réponse pour chaque problème

Problème 1 :				
A) 1	B) 2	C) 3	D) 4	E) 5
Problème 2 :				
A)	B)	C)	D)	E)
Problème 3 :				
A) 3	B) 10	C) 12	D) 19	E) 22

# REponses

**GROUPE :**

.....

Entourez la réponse pour chaque problème

Problème 1 :				
A) 1	B) 2	C) 3	D) 4	E) 5
Problème 2 :				
A)	B)	C)	D)	E)
Problème 3 :				
A) 3	B) 10	C) 12	D) 19	E) 22

# REPONSES ATTENDUES

**Problème 1 :** S'engager dans une démarche de résolution de problèmes en observant, en manipulant et en expérimentant.

A) 1

B) 2

C) 3

**D) 4**

E) 5

**Problème 2 :** Comparer des objets selon leur masse en utilisant une balance Roberval.

A) la fraise

B) le  
concombre

C) la pomme

**D) la cerise**

E) le chat

**Problème 3 :** Dénombrer les collections en les organisant.

A) 3

B) 10

C) 12

**D) 19**

E) 22