


1

MATERIELE EN ANNEXE

Observez bien cette suite pour pouvoir la reproduire et la continuer. Vous ne pourrez regarder le modèle que 2 fois.
 Quels sont les poissons en 25^{ème} et 31^{ème} position ?

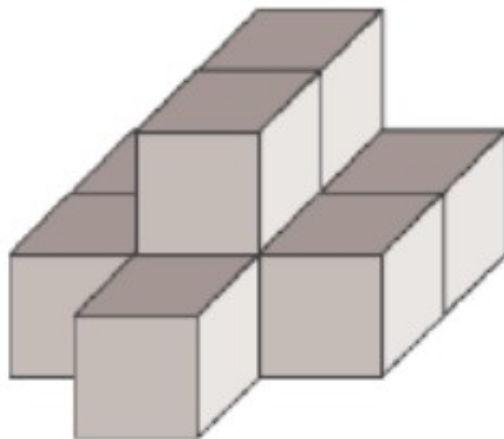


Laisser les élèves observer la suite de poissons aussi longtemps que nécessaire une première fois puis la masquer. Ils ont le droit de demander à la voir une seconde fois.

Réponse :

2

Combien de cubes faut-il pour réaliser l'assemblage suivant ?



Réponse :

3

Avec la pince à linge à votre disposition, mesurez la longueur de chaque bande. Quelle serait la longueur des deux bandes mises bout à bout ?



Matériel à prévoir :

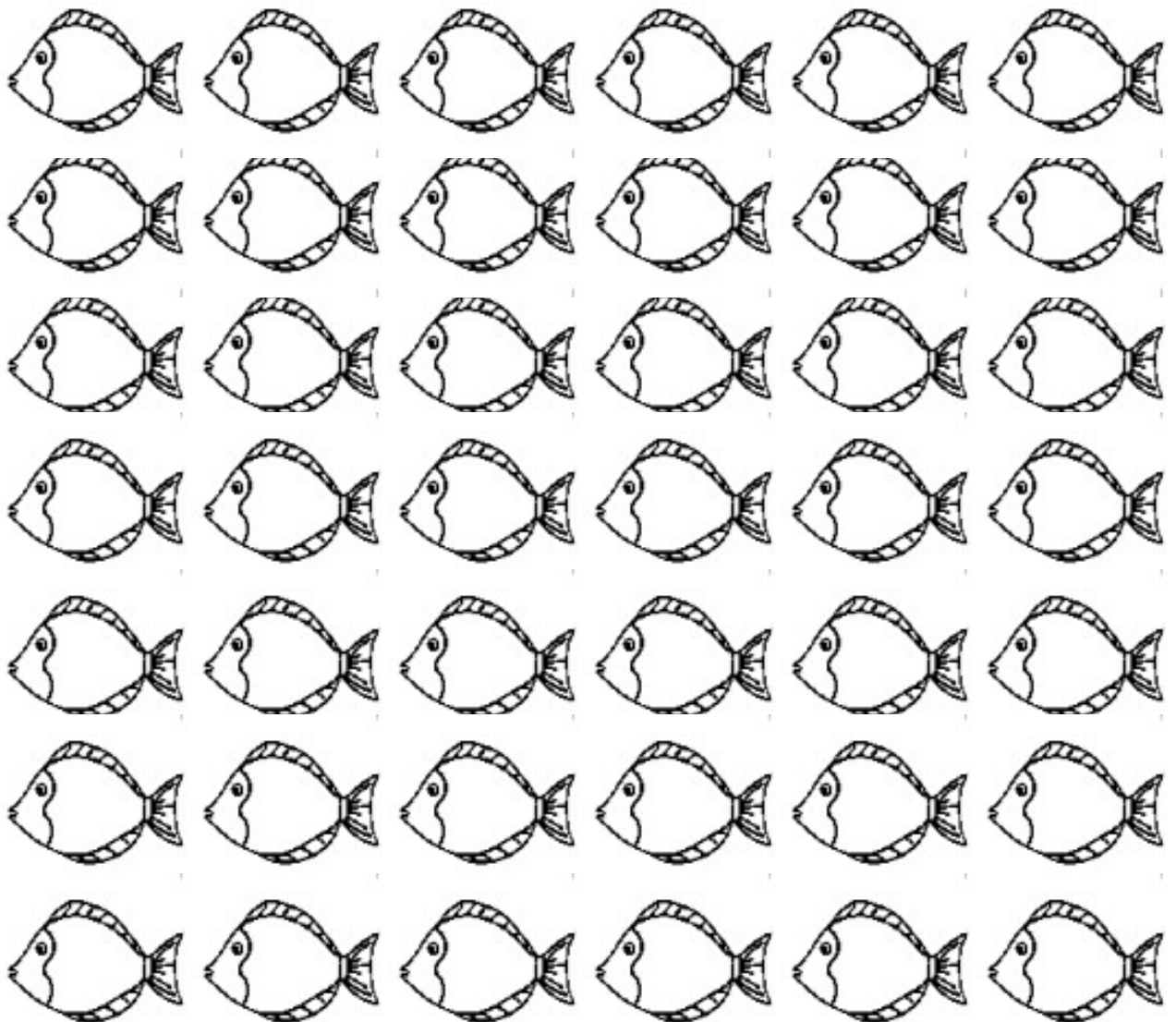

- 2 bandes de papier de même longueur (40 cm) mais de largeur et de couleur différentes
- 1 pince à linge en bois (7,3 cm) ou un carton de même dimension

Coller les bandes de papier parallèlement sur une feuille (les bandes ne peuvent pas être déplacées).

Réponse :

ANNEXES

1


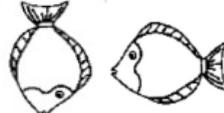




REPONSES

GROUPE :

.....

Entourez la réponse pour chaque problème


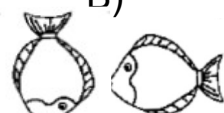

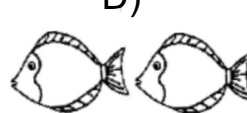
Problème 1 :				
A) 	B) 	C) 	D) 	E) Autre réponse
Problème 2 :				
A) 6	B) 7	C) 11	D) 9	E) Autre réponse
Problème 3 :				
A) entre 10 et 11	B) exactement 10	C) exactement 11	D) moins de 10	E) plus de 11

REPONSES

GROUPE :

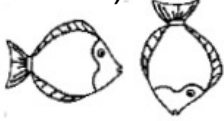
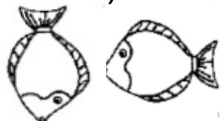

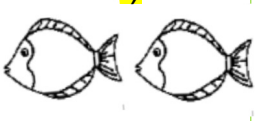
.....

Entourez la réponse pour chaque problème

Problème 1 :				
A) 	B) 	C) 	D) 	E) Autre réponse
Problème 2 :				
A) 6	B) 7	C) 11	D) 9	E) Autre réponse
Problème 3 :				
A) entre 10 et 11	B) exactement 10	C) exactement 11	D) moins de 10	E) plus de 11

REPONSES

MATERIEL EN ANNEXES

Problème 1 : Reproduire des rythmes.				
A) 	B) 	C) 	D) 	E) Autre réponse
Problème 2 : Résoudre un problème géométrique.				
A) 6	B) 7	C) 11	D) 9	E) Autre réponse
Problème 3 : Mesurer une longueur à l'aide d'un étalon.				
A) entre 10 et 11	B) exactement 10	C) exactement 11	D) moins de 10	E) plus de 11