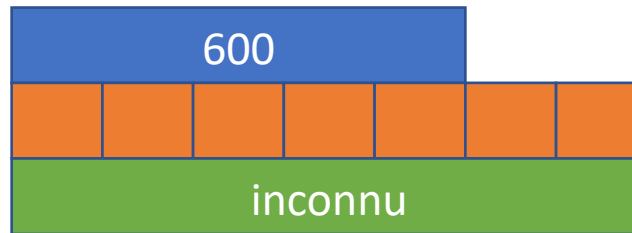


Le tour du stade mesure 600 m.

Lola parcourt $\frac{7}{5}$.

Quelle est la distance parcourue ?

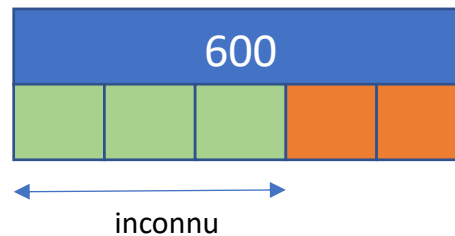


$$(600 \div 5) \times 7$$


Le tour du stade mesure 600 m.

Adam parcourt $\frac{3}{5}$.

Quelle est la distance parcourue ?



$$(600 \div 5) \times 3$$



Le tour du stade mesure 600 m.

Lola parcourt $\frac{7}{5}$.

Adam parcourt $\frac{3}{5}$.

Qui a parcouru le plus ?

Combien de mètres a-t-il ou a-t-elle parcouru en plus ?



$$\frac{7}{5} > \frac{3}{5}$$

$$\frac{7}{5} - \frac{3}{5} = \frac{4}{5}$$

