

DÉFI TOPO

CHOISIR SON ITINÉRAIRE



Parmi les 3 itinéraires A, B et C lequel est le plus adapté pour une randonnée familiale à la ½ journée ?

Itinéraire A - Les balcons de la chapelle du Mont du Chat



Des belvédères sur le Lac du Bourget et la découverte d'une ancienne mine de fer sur les flancs du Mont de la Charvaz

Accès : Du Bourget-du-Lac ou de St-Jean-de-Chevelu, rejoindre le Col du Chat par la D 914a

Itinéraire B - Autour de Saint-Pierre d'Albigny par les Garniers



Au-dessus de la vallée de l'Isère, au pied de l'Arclusaz.

Accès : Une fois à Saint- Pierre d'Albigny se garer au parking du gymnase.

Itinéraire C - Roc de la Roussette



Au-dessus des hameaux des Déserts, sous le Mont Margériaz, le Roc de la Roussette doit son nom à la couleur des rochers.

Accès : Du Col de Plainpalais, descendre sur la D 912 en direction de Chambéry.

Dans la deuxième épingle, continuer en face vers les Bouvards, passer le hameau et se garer à droite au départ d'un chemin.

DÉFI CHIEN PATOU

BIEN RÉAGIR FACE AU PATOU

Remplacez les 3 images 1, 2, 3 à leur place dans la « BD Patou » et complétez le code ci-dessous avec les numéros de pages correspondantes



**CODE DU BON COMPORTEMENT
PATOU :**

--	--	--

DÉFI, PRISE DE DÉCISION

APPLIQUER LA MÉTHODE 3 X 3

Continuer, contourner ou s'arrêter, voilà une bonne question !

La méthode 3 x 3 est là pour vous aider à objectiver la prise de décision.



Reconstruisez-la !

	Météo	Terrain	Humain
Maison ou refuge			
Le jour même			
Pendant la rando			



DÉFI NEVÉ

LES BONS RÉFLEXES EN CAS DE GLISSADE



Vous partez en glissade sur le dos
et la tête en avant sur un névé,
que faites-vous ?

REMETTEZ LES IMAGES DANS L'ORDRE.



DÉFI SECOURS M2

SAVOIR SE GÉOLOCALISER



A l'aide de votre smartphone
donnez les coordonnées GPS de votre position (WGS84) ?

Avec le système géodésique WGS 84
et l'un des formats suivants :

Coordonnées décimales

---.---

---.---

ou

Coordonnées degré, minute et seconde

---°---' E

---°---' N

ou

Coordonnées UTM

DÉFI CARTOGRAPHIE

SAVOIR LIRE UNE CARTE IGN




Pour chaque chemin 1, 2, 3, 4
retrouvez les photos de paysages A, B, C, D correspondant

--	--	--	--

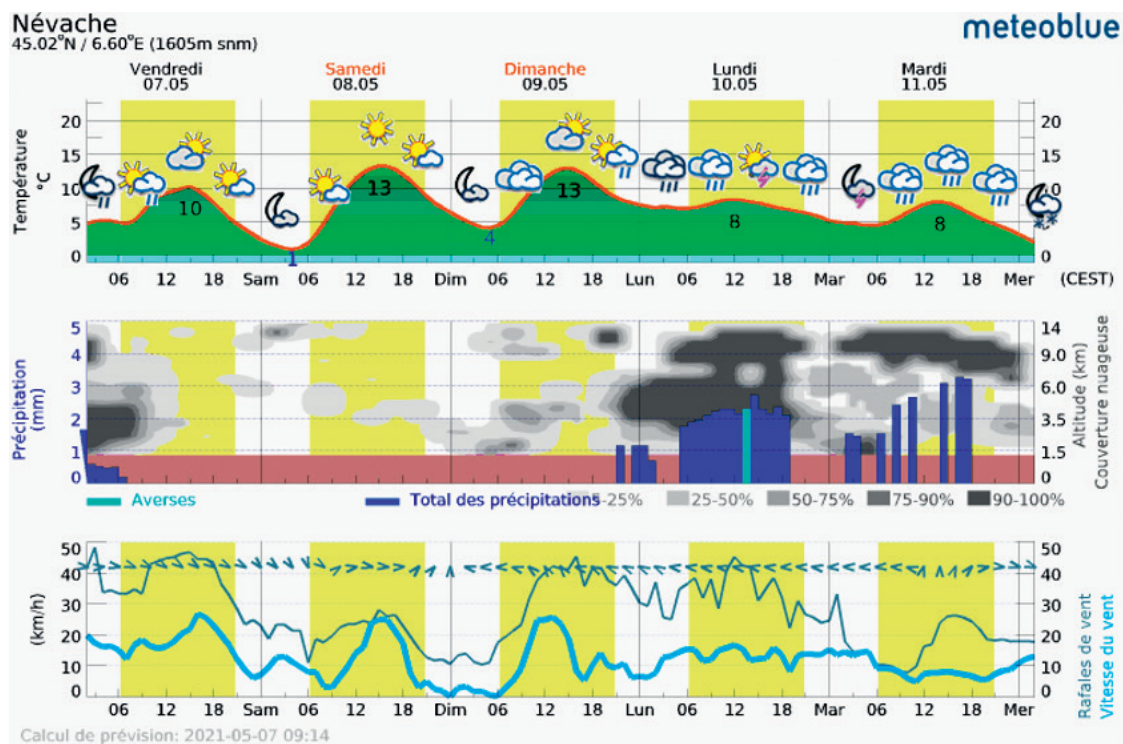
--	--	--	--

DÉFI ORAGE

PRÉVOIR LA MÉTÉO




Sur le météogramme ci-dessous :



- A. Quel jour montre une prévision d'orage marqué ?
- B. Quelle sera la vitesse du vent dimanche 9/05 à 12h ?

DÉFI BROUILLARD

SAVOIR MESURER UN AZIMUT



Quel chemin A, B, C, D ou E
correspond à l'azimut 127° ?

