





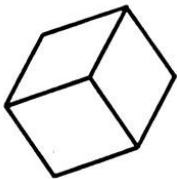






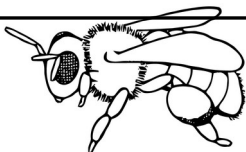



| Recherche | | Je colorie quand j'ai fini. | Je colorie si j'ai réussi |
|---|---|-----------------------------|---|
| État final (transformation négative) |  | |  |
| Comparaison |  | |  |
| le tout |  | |  |
| État final (transformation positive) |  | |  |
| Comparaison |  | |  |
| État final (transformation négative) | € | |  |
| le tout |  | |  |
| La partie |  | |  |

enfants sont dans la cour de l'école. partent à la piscine.

Combien d'enfants **restent** dans la cour ?

enfants restent dans la cour.




| | |
|----|----|
| 19 | |
| 7 | 12 |

Paola a mangé cerises. Ali en a mangé .

Combien Paola a-t-elle mangé de cerises de moins qu'Ali ?

Elle a mangé cerises de moins.



| | |
|----|---|
| 13 | |
| 5 | 8 |

19

enfants sont dans la cour de l'école. 12 partent à la piscine.

Combien d'enfants **restent** dans la cour ?

7

enfants restent dans la cour.




| | |
|----|----|
| 19 | |
| 7 | 12 |

Paola a mangé 5 cerises. Ali en a mangé 13 .

Combien Paola a-t-elle mangé de cerises de moins qu'Ali ?

Elle a mangé 8 cerises de moins.

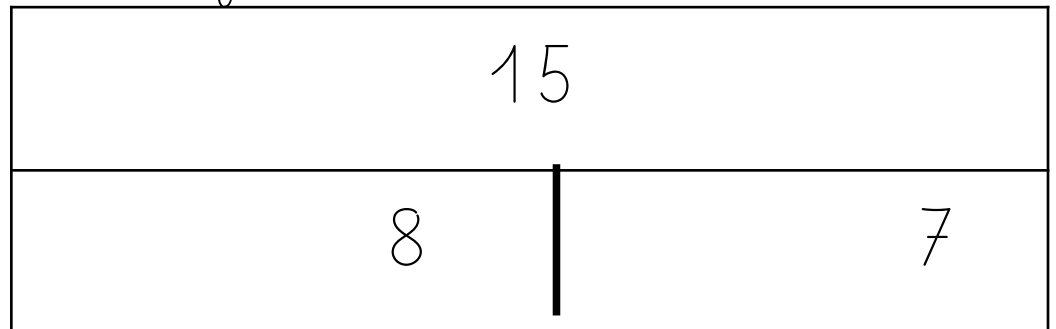



| | |
|----|---|
| 13 | |
| 5 | 8 |

Il y a œufs dans un nid et œufs dans un autre.

Combien est-ce qu'il y a d'œufs en tout ?

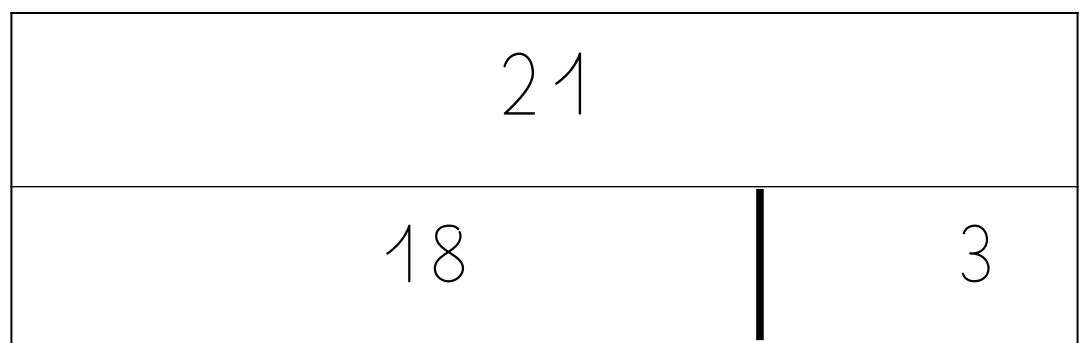
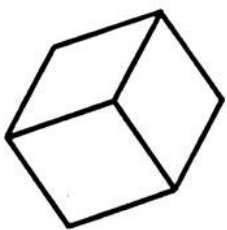
Il y a œufs en tout.



Tang fabrique un train avec cubes. Il rajoute cubes.

Combien a-t-il utilisé de cubes en tout ?

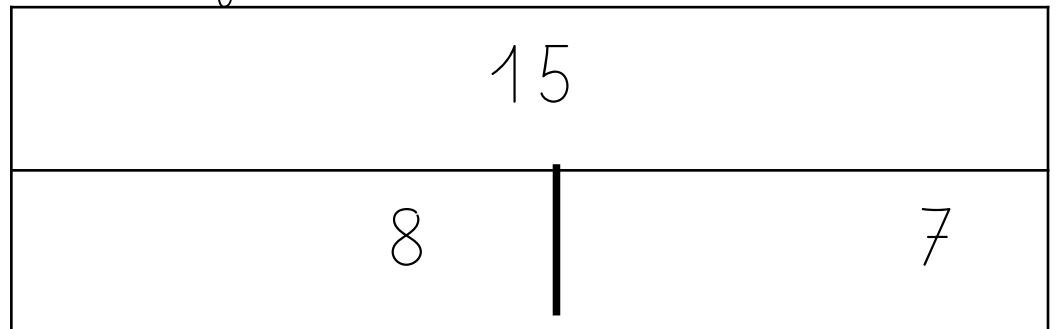

Il a utilisé cubes en tout.



Il y a œufs dans un nid et œufs dans un autre.

Combien est-ce qu'il y a d'œufs en tout ?

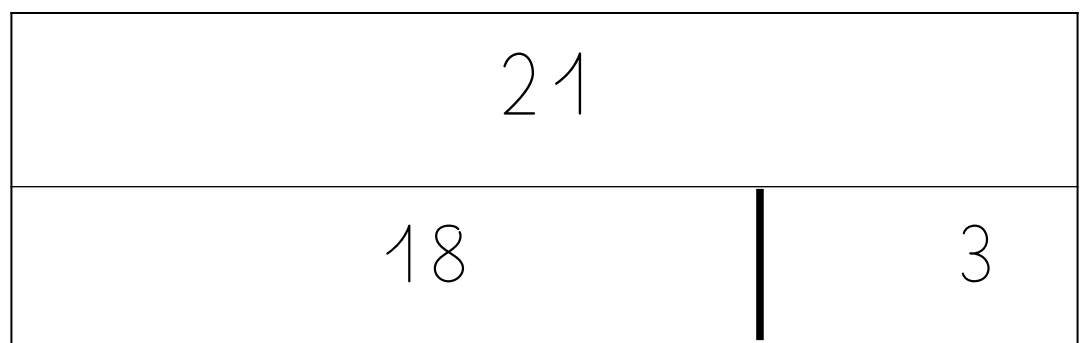
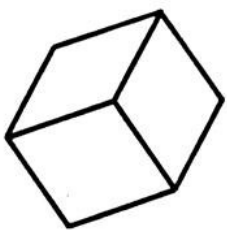
Il y a œufs en tout.



Tang fabrique un train avec cubes. Il rajoute cubes.

Combien a-t-il utilisé de cubes en tout ?

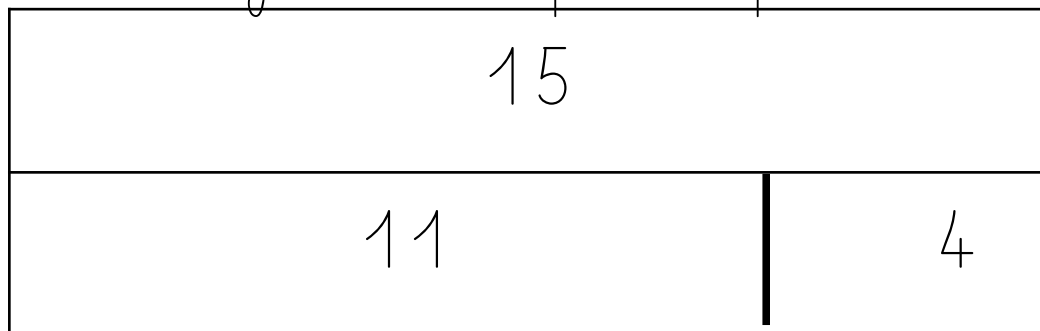
Il a utilisé cubes en tout.



Léo a crayons. Sarah en a

Combien de crayons Sarah a-t-elle en plus que Léo ?

Sarah a crayons de plus que Léo.



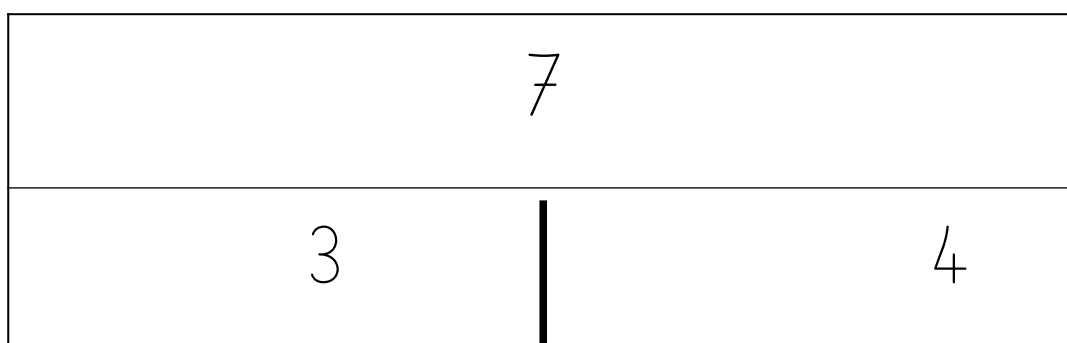
Emma avait euros dans son porte-monnaie.

Elle a acheté des sucettes.

Il lui reste maintenant euros.

Combien a-t-elle dépensé ?

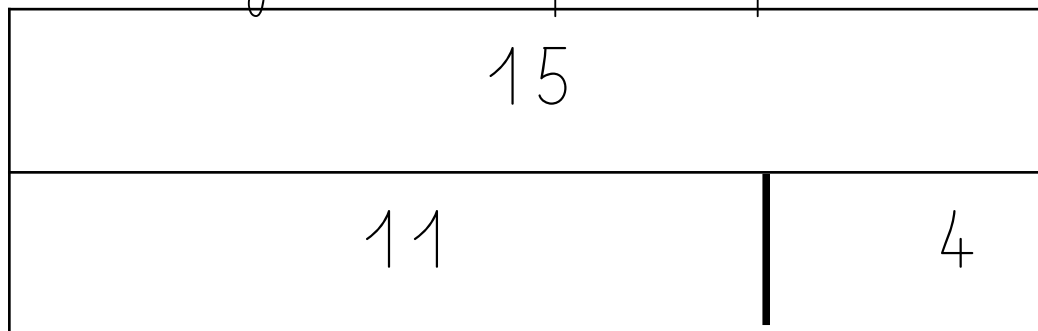
Elle a dépensé euros.



Léo a crayons. Sarah en a

Combien de crayons Sarah a-t-elle en plus que Léo ?

Sarah a crayons de plus que Léo.



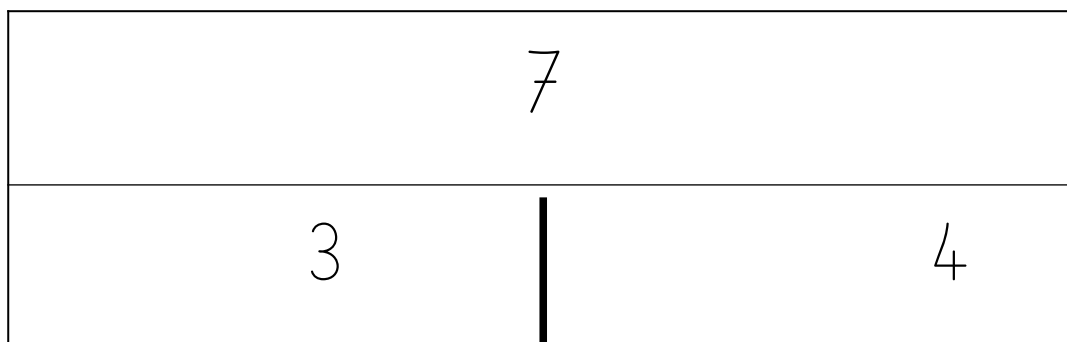
Emma avait euros dans son porte-monnaie.

Elle a acheté des sucettes.

Il lui reste maintenant euros.

Combien a-t-elle dépensé ?

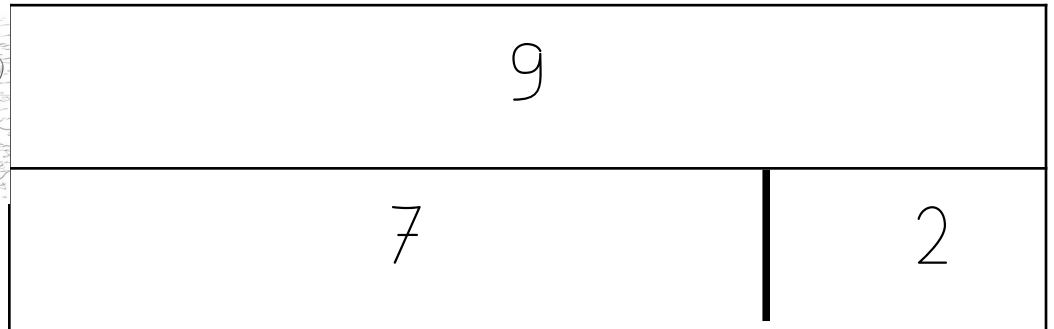
Elle a dépensé euros.



Combien Mia a-t-elle vu d'animaux en tout ?

Dans la forêt, elle a vu vipères et biches.

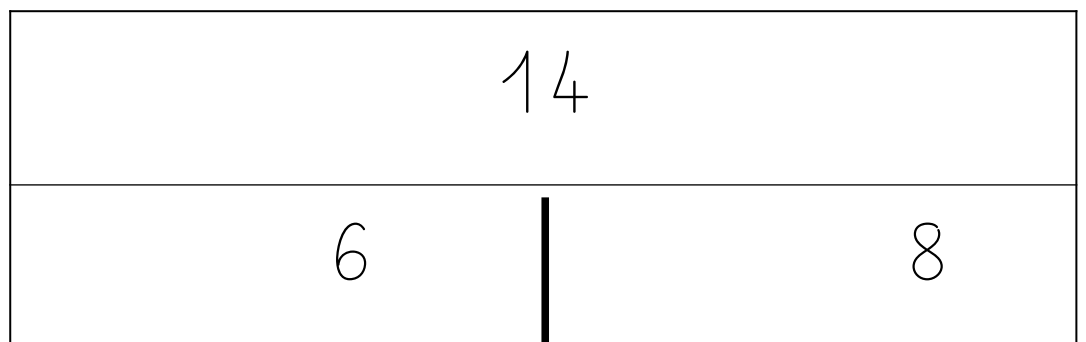

Elle a vu animaux en tout.



Combien y a-t-il d'abeilles ?

Sur le rosier il y a petites bêtes : papillons et des abeilles.

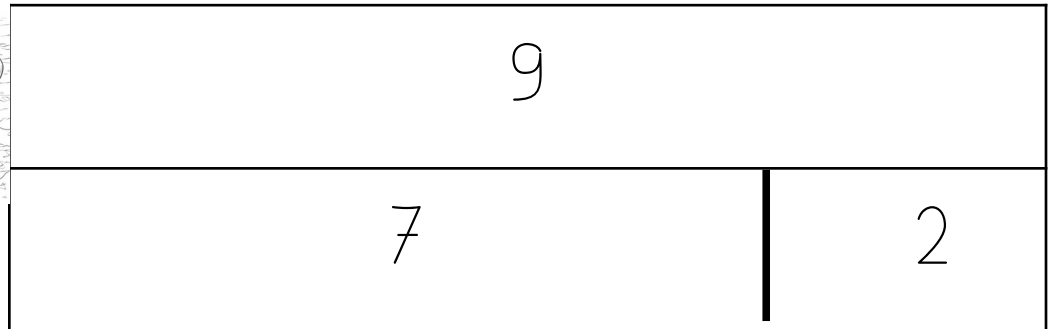
Il y a abeilles.



Combien Mia a-t-elle vu d'animaux en tout ?

Dans la forêt, elle a vu vipères et biches.

Elle a vu animaux en tout.



Combien y a-t-il d'abeilles ?

Sur le rosier il y a petites bêtes : papillons et des abeilles.

Il y a abeilles.

